

OREMEX Ministries

Cursos Bíblicos
por Video



Arte (c) 2000 Ron Raymer - www.raymerstudio.com

AH 01– Geografía Bíblica

Jorge Cuadrado

GUIA DEL ALUMNO

OREMEX Ministries

5706 N La Homa Rd

Mission, TX 78574

956.585.1330

Fax 956.519.7917

Info@oremex.org

Entrenamiento de obreros por sistema de video, bajo auspicios, dirección y responsabilidad literaria y doctrinal de OREMEX Ministries, Inc., con sede en la ciudad de Mission, Texas, USA. Prohibida la reproducción total o parcial sin permiso por escrito.

GEOGRAFIA BIBLICA

CURSO PARA ESCUELAS POR VIDEO

Por Jorge Cuadrado

© 1996 OREMEX Ministries, Inc.

GUIA DEL ALUMNO

CONTENIDO

CURSO

No.	Sección	Lecciones	Página
I.	INTRODUCCION GENERAL A LA GEOGRAFIA	1	3
II.	INFORMACION GENERAL SOBRE PALESTINA	2, 3.	6
III.	RELACION DE PALESTINA CON OTROS REINOS	3, 4, 5	10
IV.	LA SITUACION GEOGRAFICA DE PALESTINA	5, 6	16
V.	OBSERVACION DETALLADA DE LAS DIVISIONES NATURALES	6, 7, 8	21
VI.	OROGRAFIA DETALLADA DE PALESTINA	8, 9	30
VII.	HIDROGRAFIA DE PALESTINA - POZOS	10, 11	35
VIII.	DESIERTOS, LLANOS Y VALLES	12	41
IX.	VIAS DE COMUNICACION - CARRETERAS	13	45
X.	CLIMA, LLUVIA, ESTACIONES Y VIENTOS	14	49
XI.	ASPECTO ECONOMICO DE PALESTINA	15	52
XII.	EL CANON BIBLICO EN EL MUNDO BIBLICO	16	57

MAPAS Y GRAFICAS

No.	Título	Página
1.	ISRAEL EN TIEMPOS DE DAVID Y SALOMON	61
2.	TIERRA SANTA - MAPA GEOLOGICO	62
3.	OROGRAFIA DE PALESTINA	63
4.	PALESTINA - LAS PRINCIPALES CORRIENTES	64
5.	TOPOGRAFIA DE PALESTINA (1)	65
6.	TOPOGRAFIA DE PALESTINA (2)	66
7.	CIUDAD ANTIGUA - JERUSALEN	67
8.	LA TIERRA SANTA - RUTAS PRINCIPALES	68
9.	CALENDARIO AGRICOLA HEBREO	69
10.	LA TIERRA SANTA - LA ECONOMIA	70

GEOGRAFIA BIBLICA

CURSO PARA ESCUELAS POR VIDEO

Por Jorge Cuadrado

© 1996 OREMEX Ministries, Inc.

GUIA DEL ALUMNO

◆ LECCION 1.

I. INTRODUCCION GENERAL A LA GEOGRAFIA

A. LA GEOGRAFIA EN GENERAL

1. ¿Qué es la Geografía?

"La Geografía es la ciencia que trata de la _____
de la superficie terrestre."

2. ¿Qué estudia la Geografía?

"La Geografía estudia todo aquello que tenga que ver con los acontecimientos de la tierra."

a. Su _____

b. Su _____

c. Su _____

d. Su _____

e. La cultura de sus _____

3. ¿Cómo se Divide la Geografía?

a. Geografía _____ - "Ciencia que trata de la _____
del globo terrestre en su conjunto y de los
_____ que lo afectan."

- b. Geografía _____ - "Estudio de las producciones del _____: Animales, vegetales, maderas, minerales, etc.
- c. Geografía _____ - "Estudia las _____, las lenguas, los límites de los pueblos y las instituciones, las relaciones del _____ con el suelo y sus organizaciones."
- d. Geografía _____ - "Estudia las manifestaciones de la vida vegetal y _____."
- e. Geografía _____ - "Estudia la _____ del globo en cuanto a su posición en el sistema planetario."
- f. Geografía _____ - "El estudio sistemático del escenario de la _____ divina y de la influencia que tuvo el medio ambiente en la _____ de sus habitantes."

B. LA GEOGRAFIA BIBLICA EN ESPECIFICO

1. Dios se _____ por medio de la _____ - Rom. 1:20

Los sitios geográficos de la Biblia son de suma importancia por cuanto tienen que ver con los _____ y con el *DIOS-HOMBRE*. - Jn. 1:14

2. La _____ Santa y el _____ Santo pueden entenderse mejor al estudiarlos juntos.

¡Alguien ha llamado a *Paletina* el *QUINTO EVANGELIO*! Una comprensión de su topografía y geografía hace que las Escrituras cobren vida delante de uno.

Más de dos terceras partes de los _____ de la _____ tienen que ver con _____.

3. Hay que recordar que las _____ de _____ a su pueblo escogido fueron en el primer plano y principalmente bendiciones _____ . Exodo 23:25; Deuteronomio 28

4. No debemos olvidar que la _____ se _____ en una tierra *oriental*, con costumbres, lenguaje, etc., *orientales*.

C. ¿Cómo podremos mejor entender la Geografía?

1. Tomar en cuenta algunos _____ primarios de la _____ de la _____ en general.

a. Para facilitar el estudio de la geografía y determinar la _____ de un país o ciudad, los *geógrafos* han imaginado trazar _____ que se llaman *meridianos* y *paralelos*.

b. Los *meridianos* de *longitud* son ciertos círculos imaginarios que se extienden de _____ a _____ (norte al sur). El principal pasa por Londres y Greenwich en Inglaterra. Este meridiano divide la tierra en dos hemisferios, el _____ y el _____. Hay 360 meridianos alrededor del mundo y por consiguiente 360 ° medidos entre ellos.

c. Los *paralelos* de *latitud* - El ecuador, la línea equinoccial, es la línea o círculo imaginario que ciñe la tierra pasando a _____ distancia de los _____. Divide la tierra en dos hemisferios, el *septentrional* (norte) y el *meridional* (sur).

A partir del ecuador (cero grados) el mundo se divide en zonas de igual distancia con líneas imaginarias y son paralelos al ecuador hasta 90 grados (norte) y 90 grados (sur).

2. Poner atención a la *enumeración* y puntos cardinales de los _____.

a. En la mayoría de los mapas la enumeración de los *meridianos* de longitud se halla cerca de los polos (en las partes superior e inferior de los mapas).

b. Los *paralelos* de latitud se encuentran enumerados al *este* (lado derecho) o al *oeste* (lado izquierdo).

3. Tomar en cuenta los diferentes tipos de mapas que se usan
 - a. Mapas de _____ - Los que muestran en forma sombreada para apreciar mejor la superficie y accidentes físicos de la topografía de la tierra.
 - b. Mapas _____ - Aquellos que están impresos en diversos colores indicando el territorio perteneciente a cada país.
 - c. Mapas de _____ - Aquellos que se hacen con líneas curvas para mostrar la forma curva de la tierra.
4. Tomar en cuenta las diferentes *escalas* que se encuentran dibujadas. Son las líneas que dividen en partes iguales que representan kilómetros o millas entre un punto y otro.
5. Sobre todo usar los _____.

TAREA SUGERIDA

Traer dibujado tu país con las coordenadas geográficas y puntos cardinales (colindancias)

◆ **LECCION 2.**

II. INFORMACION GENERAL SOBRE PALESTINA

A. La _____ geográfica de Palestina

1. Tomando en cuenta sus coordenadas geográficas Palestina se encuentra entre 31° y 35° latitud _____ y entre $32^\circ 15'$ y $34^\circ 30'$ longitud _____.
2. Está ubicada en una porción de _____ continentes del hemisferio oriental.
 - a. _____ al sur
 - b. _____ al este y norte
 - c. _____ al noroeste

3. En el extremo _____ de la *Media Luna Fertil*

a. Una región semicircular entre el Golfo _____ y la Península del _____.

b. En su lado oriental fue la cuna de la _____ humana y su primer _____.

4. En un sitio _____ internacional

a. Se encuentra más o menos _____ entre los valles de los Ríos _____ y el _____.

b. Por esa ruta pasaban las _____ internacionales entre los continentes (Ezequiel 38:12).

c. Todos los acontecimientos _____, políticos, económicos o religiosos, afectaban su _____ geográfica.

5. Significado y _____ de su situación geográfica.

a. Una nación _____ que sería _____
(Deuteronomio 7:6, 7; Génesis 12:2, 3)

b. Una tierra _____ (Exodo 33:16; Salmo 135:4; 19:5, 6)

c. Un _____ (Isaías 43:10)

d. Un lugar _____ (Hechos 1:8)

e. Una _____ (Dt. 8:7, 8; Ex. 3:8; 13:5; Ezeq. 20:6)

f. Una consecuencia desfavorable es que fue extirpada de su _____ (Exodo 23:31 - 33)

B. La _____ Territorias de Palestina

1. Según la promesa divina, desde el río de _____ (El Sihor)

hasta el río grande (El Eufrates) (Génesis 15:18; Números 34:2 - 12; Ex. 23:31; Jos. 13:3 - 5)

2. Pero esto no llegó a ser en los tiempos de _____, que fue cuando se llegó a extender más (1 Reyes 4:24) *Unos 156,000 km²*.
3. Este territorio no lo lograron ocupar todo. Los *fenicios y cananeos* en la costa norte; los _____ en la costa sur.
4. La extensión territorial de Palestina no excede a _____
 - a. De norte a sur tiene _____ kilómetros de _____.
 - b. La _____ mayor alcanza al sur _____ kilómetros.
5. Observaciones pertinentes
 - a. Israel no ha mantenido la misma _____ territorial durante su existencia nacional.

[VEA MAPA # 1.]

- b. En la actualidad su extensión es de unos 21.000 km². (Lo que sería el país de El Salvador, o el estado de México. Israel cabría tres veces en el estado de Veracruz, setenta y cinco veces en la República de México. ¡Cabría Israel en la isla de Haití!)
- c. Sólo en tiempos de _____ y _____ (1000 a 922 A.d.C.), _____ (786 - 746 A.d.C.), Alejandro Janneo (103 - 76 a.d.C.), Herodes el Grande (37 - 4 a.d.C.), y Herodes Agripa I (37 - 44 d.d.C.). En 1956 d.d.C. Israel tomó todo el Sinaí, perdiendo 103 millas en 1973.

C. Sus _____ naturales y políticos (Números 34:2 - 15)

1. Al _____ (Hamat), Líbano, Antilíbano, el Río Leontes.
2. Al _____ (Desierto de Zin, Subida de Acrabim, el Desierto Sinaí)
3. Al _____ (Desierto _____, el Mar Muerto y Cineret)
4. Al _____ (Mar Mediterráneo o Grande)
5. Políticamente tiene como vecinos a Fenicia (Líbano) y _____ al norte, Filistea y Egipto al sur, y _____ al este.

◆ **LECCION 3.**

D. Sus _____ (Muy variados durante su existencia)

1. CANAAN - Génesis 9:18; 11:31

2. _____ - Exodo 15:14 - Es nombre no muy remoto que significa "*FILISTEA*" en la traducción hebrea. Con ese nombre los autores griegos y latinos denominan a todo el territorio.

3. TIERRA PROMETIDA - Hebreos _____

Por causa del llamamiento y _____ que Dios hizo con _____.

4. TIERRA DE LOS _____ - Génesis 40:15

Un nombre que proviene de la voz hebrea "*haber*" que quiere decir "*pasar sobre,*" o "*el que vino de allende del río.*" Sentido de extranjero.

5. _____ - 1 Samuel 13:9

Es el nombre nacional, el que ellos mismos se otorgaron. Por un tiempo todo el territorio se llamó de este manera. Después que el reino fue dividido, se le llamó sólo a las diez tribus del norte. Hoy se llama "*EL ESTADO LIBRE DE ISRAEL*".

6. _____ - Josué 15

Nombre que llegó a ser de toda la nación al regresar del Cautiverio, de la reconstrucción del templo y reorganización nacional del pueblo de Dios.

7. TIERRA _____ - Zacarías 2:12

Nombre que después del Cautiverio Babilónico los judíos la denominan.

8. _____ O TITULOS

a. Serrania de los amorreos - Deuteronomio 1:7

b. Mi Tierra - Levítico 25:23

c. Mi Monte Santo - Isaías 11:9

d. Mi Heredad, Mi Viña Amada, Campo, Mi Porción Amena - Jeremías 12:7 - 10

E. Su _____ - Salmo 24:1, 2; Ezequiel 37:22

1. Es obvio que se encuentra en _____

2. Sale de entre uno de los tres hijos de Noé, " " - Génesis 10:21 - 22; 11:10 - 26

3. Una civilización que se ubicó en la tierra de _____ (Caldea) - Génesis 11:2

4. Ur fue el origen primario de donde _____ fue llamado como por el Siglo XX o XIX A.d.C. (Muy posible que fue 1926 A.d.C.)

III. RELACION DE PALESTINA CON OTROS REINOS

A. Cuando Dios _____ al patriarca Abram para formar de el una nación, ya se encontraba civilización en el Oriente.

1. Los datos antediluvianos son muy escasos.

a. Tenemos el Capítulo 4 de Génesis.

Una ciudad (v. 17); "Cualquiera que me hallare" (v. 14); tiendas y ganados (v. 20); arpa y flauta (v. 21); artífice (v. 22); bronce y hierro (v. 22b).

b. El Cro-magnon bíblico (?)

Inteligente, capaz, artístico, inventor, desarrollando una comunicación altamente detallada, creando sociedades y religión.

c. Edad de Piedra - Paleolítica y neolítica (?)

(10,000 - 4,000 A.d.C.)

2. Sir Leonardo Woolley en sus excavaciones llevadas a cabo en Ur Naamu en 1929 - 1933 d.d.C. encontró rasgos ante-diluvianos avanzados.

3. Los Datos Post-Diluvianos - Génesis 10:1 - 32; 9:18, 19

a. Los descendientes de Jafet

Los pueblos indo-europeos o arios, cimbros, galenses, irlandeses, celtas, francesas, escitas, rusos, medos, persas, griegos, tracios, germanos, fineses, romanos, eslavos (polacos, checos, eslovacos, lusacios, búlgaros, serbios, croatas, eslovenos).

b. Los descendientes de Cam

Padre de los etiopes, egipcios, libios, africanos, cananeos.

c. Los descendientes de Sem

Progenitor de los caldeos, elamitas, asirios, arameos, lidios, sumerios, árabes, fenicios, hiksos.

B. Al llegar a _____ se encontró _____ a _____ por descendientes camitas. (Génesis 15:18 - 21; 14:4 - 7; 21:27 - 34; 23:20; 24:3; Deuteronomio 2:8 - 10, 12, 20, 23; 3:9; 7:1)

1. _____ establecidos en una estrecha faja de tierra costera (Jope, Acco) y el _____ del _____.
 2. Refaitas orafeos vivían en _____. Se fusionaron con otras tribus (amorreos, anaceos).
 3. Zuzitas ozomzommeos ocuparon la altiplanicie oriental al sur y sureste de Galaad.
 4. Emitas o emineos establecidos al oriente del Mar _____
 5. Horeos al sur del Mar Muerto en el Monte Seír y el Desierto de Parán
 6. Los aveos - pueblo aborigen de la Séfela y Gat (Deut. 2)
 7. Ceneos, cenezeos y cadmoneos, tribus nómadas del _____, vivían al oriente del Mar Muerto, descendientes de _____ y _____.
 8. _____ o _____ - pueblo que dominó el Asia Menor, Siria, Líbano, Mar de Galilea y cerca de Hebrón.
 9. Ferezeos - establecidos al norte de la Séfela.
 10. _____ - una de las tribus mas potentes que dominaba Mesopotamia.
 11. Gergeseos al occidente del Mar de Galilea
 12. _____ - habitantes de las montañas alrededor de Jerusalén.
 13. Heveos se establecieron en diversas partes, al pie del Líbano y el centro de Canaán.
 14. _____ ocuparon el sur de la costa de Palestina.
 15. _____ - pueblo pacífico y comercial, se desarrolló al norte del Monte Carmelo y a la desembocadura del Río Leontes.
 16. Otros pueblos se desarrollaron de las genealogías de _____ (Cetura, Agar), _____ y _____.
- Ismaelitas (Génesis 21:20 - 21; 25:18); Madianitas (Génesis 25:2, 6); Edomitas (Génesis 36:1); Amonitas (Génesis 19:38); Moabitas (Génesis 19:37); Amalecitas (Ex. 17:16; Núm. 13:29).

TAREAS SUGERIDAS:

1. Hacer mapa con la distribución de los pueblos después del diluvio descendientes de los hijos de Noé.
2. Hacer mapa de la ruta que siguió el patriarca Abram desde Ur a Canaán.
3. Hacer Mapa de la ruta del Exodo.

◆ LECCION 4.

C. Potencias que han penetrado en Palestina.

1. _____ en la historia de Israel
 - a. Establecimiento temporal de _____ (2000 - 1786 A.d.C.)
Génesis 11:31; 12:1 - 10
 - b. Asentamiento permanente de _____ en tiempos de _____
(1786 - 1560 A.d.C.) Génesis 37
 - c. Llamamiento y liberación con Moisés en el Exodo (1490 - 1441 A.d.C.) Exodo 1:8 - 35:35
 - d. Egipto ha sido para Israel en ocasiones invasor y en otras refugio.
2. El Imperio Sirio o _____
 - a. Llamado también *Celesyria* ocupando la costa oriental del Mediterráneo, Damasco la ciudad principal.
 - b. Fue el _____ belicoso de Israel por mucho _____.
 - c. Uno de los reyes más destacados contra Israel era Hadad-ezer.
David quien lo venció tres veces (2 Samuel 8:3 - 8; 10:6 - 14; 10:15 - 18) tomando control de Soba por 1010 - 970 A.d.C.
REZON - Salomón - 1 Reyes 11:14 - 25
_____ - Asa y Baasa - 1 Reyes 15:16 - 20;
2 Crónicas 16:1 - 10 (900 A.d.C.); Acab - 1 Reyes 20:1 - 43;
22:1 - 40; 2 Reyes 5:1; 6:8, 24; 8:7 - 15.
HAZAEEL - 871 - 788 A.d.C. - Joram - 2 Reyes 8:27 - 29; Jehú - 2 Reyes 10:32, 33; Joacaz - 2 Reyes 13:1 - 4.
_____ - 2 Reyes 13:24, 25; Joas y Jeroboam II - 2 Reyes 14:23 - 28 (782 - 753 A.d.C.)
_____ - 2 Reyes 15:32 - 37; 16:5 - 9

3. Con _____ se inicia la deportación de diez tribus de Israel
- El primer rey asirio viniente contra el pueblo de Dios era Pul (2 Reyes 15:19, 20 (743 A.d.C.) estando gobernando Manahem. El nombre de este rey asirio en el trono era Tiglat-pileser III.
 - La invasión contra _____ (2 Reyes 15:29) y _____ del país (Galaad, etc.).
 - Salmanasar V o Sargón II toman completamente el reino del norte (722 A.d.C.) siendo deportados a territorios asirios - Isaías 7:1 - 8; 2 Reyes 17:1 - 23; Isaías 20:1 - 6.
 - Senacharib - 2 Reyes 18:13 - 19:37; 2 Crónicas 32:1 - 22 - Un gran susto a Ezequías.
 - Esarhadón y asurbanipal (Asnapar) - Esdras 4:10; 2 Crónicas 33:1 - 13 (Manasés).
4. La deportación total de _____ y _____ (Reino del Sur) bajo los _____ o Caldeos.
- _____ A.d.C. - Nabucodonosor toma a Jerusalén, llevando la nobleza y jóvenes y los tesoros del templo - 2 Reyes 24:1 - 17 - Joacim y Sedequías
 - _____ A.d.C. - La segunda invasión de Nabucodonosor a Israel penetrando y rompiendo los muros y sacando los ojos a Sedequías - 2 Reyes 25:1 - 7.
 - _____ A.d.C. - La caída total de Jerusalén - 2 R. 25:8 - 21
5. Bajo los Medo-Persas los judíos recibieron permiso para regresar a su pueblo y reconstruir la ciudad y el templo.
- _____ A.d.C. - Se promulga el edicto para su regreso (2 Crón. 36:22, 23) siendo como 50.000 los que lo hacen poniendo las bases del templo.
 - _____ A.d.C. - Reinició y terminó la construcción del templo - Esdras 5:1 - 6:15 - _____ ío _____ (Zorobabel, Josué, Esdras, Hageo, y Zacarías.
 - _____ A.d.C. - Nehemías reconstruye los muros de la ciudad - Nehemías 2:1 - 4:23
 - _____ A.d.C. - Bajo Artajerjes III se llevó a cabo una "Tercera Cautividad," llevados a Hircania.

6. El Imperio _____ somete a _____ - 333 - 332 A.d.C. -
Respetando la ciudad - Suplica de una comitiva.
- a. Judea bajo los Ptolomeos - Dominaban Egipto y Damasco.
(322 - 321 A.d.C.) - La Septuaginta
 - b. Judea codiciada, tomada y profanada por los Seleucidas.
 - c. Durante este tiempo Palestina _____ mucho _____
A.d.C. Antíoco III, Seleuco, Antíoco IV, Antíoco V - 142
A.d.C. - Independencia de los Seleucidas.
7. El Dominio _____ (Aretas) - Llega a Palestina, primero
como _____ de Hircano (65 A.d.C.) y después como
_____.
8. IncurSIONES de _____
- a. _____ (Pompeyo) - 63 A.d.C.
 - b. _____ (Pácoro) - 41 - 40 A.d.C.
 - c. _____ (Tito) - 70 D.d.C.

Nota: Impostor "*Bar Cocheba*" logró que el rabí Akiba lo
impusiera como libertador - 131 D.d.C. - Fue
guerra de exterminio.

Judea fue desechada y se llamó "*Colonia Aelia
Capitolina.*" (*colonia = condición romana; Aea =
nombre personal del emperador; Capitolina =
dedicada a Júpiter.*)

- d. Bizantinos - 375 D.d.C. - Teodosio
- e. _____ - Musulmanes - 614 - 638 D.d.C.
- f. Los _____ (1095 D.d.C.) y Sarracenos (Ocho
cruzadas) Saladino tomó a Jerusalén - 1187 - 1244
D.d.C.
Otomanos, Turcos - 1453 D.d.C. - Dominando a
Constantinopla.

◆ **LECCION 5.**

- g. 1917 _____ es entregada al ejército _____
Los Poderes Aliados (Francia, Gran Bretaña, Rusia, Italia, Bélgica, Portugal, Servia, Grecia, Rumania y EE.UU. - La Primera Guerra Mundial.
- h. 1948, 14 de mayo - Nace una nación en un día. Ben Gurrion lee la Declaración de Independencia.
- i. 1967 - *La Guerra de Seis Días* - Israel recupera su territorio hasta el Canal de Suez, el Sinaí.
- j. _____ *La Guerra de Yom Kippur* - Israel pierde _____.

D. Potencias que han _____ al pueblo _____

1. _____ en varias ocasiones - Isa. 11:11; 27:13; 43:3; Jer. 16:14
2. _____ - Recordemos las replantaciones que se hicieron - Isaías 11:11; 2 Reyes 15:29; 17:6, 23 - _____, _____, _____
3. _____ - Isaías 11:11; 43:6 - *Reinos del Sur*
Etiopía, Arabia Petrea, Yemen - Isaías 43:3
4. Elam, Sinar, Hamat - Hoy son Irak, Irán, Siria y Líbano.
5. "*En las costas*"
 - a. _____
 - b. _____
 - c. _____
 - d. _____
6. "*Del Oriente*"
 - a. _____
 - b. _____
7. "*De Occidente*"
 - a. _____
 - b. Estados Unidos

- c. Argentina, Latinoamérica
- d. Marruecos
- e. Argelia, Chipre
- f. Tunes

8. "Del Norte"

- a. Checoslovaquia, _____
- b. Bulgaria
- c. Yugoslavia
- d. _____
- e. _____

IV. LA SITUACION GEOGRAFICA DE PALESTINA

[VEA MAPA # 2.]

A. Tierra de Contrastes: Un Compendio del Mundo

1. Los _____ contrastes del aspecto _____
 - a. Tienen una configuración muy _____ - Los extremos de su altura - _____ metros vs. _____ metros bajo el nivel del mar.
 - b. Su _____ - Un _____ extremo en las montañas vs. un _____ tórrido en la falla.
 - c. Fauna: de _____ lo animales del mundo
 - d. Flora - Durante toda época y variada (Unas _____ plantas, animales, más de _____ tipos de árboles mencionados en la _____. Muy dañada.
 - e. Minerales - Un geólogo puede encontrar formaciones de todas las partes y épocas, rocas de todas las _____ del mundo.
2. Esta tierra físicamente es una _____.
 - a. Génesis 12:3 - Esta tierra es esperanza y aspiración de los habitantes del mundo.
 - b. Un descanso después de la guerra

- c. Una obra doctrinaria ante cuya portada corre el _____
 - d. Es el cumplimiento físico del propósito divino anunciado primero a _____ y confirmado a sus _____
3. _____ fue el primer cartógrafo de la Tierra Prometida.
- a. El observatorio natural de Moisés fue el Monte _____ de las montañas Abarim - Deuteronomio 32:49; 34:1
 - b. La cumbre del Pisga se llamaba _____ - 823 - 1.000 metros
 - c. Lo que vio Moisés - Deuteronomio 34:1 - 3

B. Descripción Física de Palestina - Deuteronomio 8:7 - 10

[VEA MAPA # 3.]

- 1. Regiones físicas _____ - Norte a Sur - longitudinales
 - a. Iniciando en las costas del Mar Mediterráneo - La llanura _____ o ribera del mar.
 - b. La Sefela
 - c. La Cordillera _____ - "serranía" - Espinazo de Palestina
 - d. El _____ del _____ - "el arabá" - hondonada - "Ghor"
 - e. La Altiplanicie _____ - "Serranía de los amorreos"
- 2. Dos Zonas Latitudinales de Importancia (Este al oeste)
 - a. Al norte del país - _____ de Esdraelón
 - b. Al sur de Israel - El _____ - "el mediodía" - seco
- 3. Estructura geológica - estratigrafía
 - a. _____ y _____ en la región costera, tierra fértil.
 - b. _____ en la llanura marítima, Sefela, Valle del Jordán
 - c. _____ en la cordillera central, neguev, sur alt. oriental.

- d. _____, arenisca, gránito, basalto en la mayor parte del país.
4. _____ geológicas
- a. La principal del _____ del _____ - "que desciende"
- b. La del _____
- c. En la Llanura _____

TAREAS SUGERIDAS:

1. Investigar en las Escrituras aquellos textos que mencionan la dispersación y el recogimiento de Israel por el mundo.
2. En un mapa mundial político marcar lugares donde aun existen judíos en el mundo.

♦ **LECCION 6.**

5. Vegetacion (flora) de Israel - Salmo 54:1, 2, 6, 13, 16
- a. Observación importante - La zona _____ es la más abundante en _____. El resto del país _____ - bajo: ajenjo, brezos, matorrales, barrilla
- b. Propia de _____, _____, pinos - Traído: ciprés, eucalipto, acacia - Salmo 104:10, 13, 16 - álamos, adelfias, tamariscos
- c. Los _____ - trigo, cebada - Salmo 81:16 - Filistea, Jezreel, Esdraelón, altiplanice oriental y el valle central - Rut 2:23 - Suelo seco al sur de Judea y lugares áridos
- d. _____ - Uva, higuera, higos, melones, olivos, almendras, nueces, granadas, etc. - Miqueas 4:4; Oseas 9:10; Isaías 1:8; Jeremías 11:16; Ecclesiastés 12:5 - Manzanas, maíz y naranja.
- e. _____ - pepinos, cebollas, comino, menta, eneldo, lechuga, ajo, coles - Mateo 23:23; Génesis 25:34; Números 11:5
- NOTA: Isaías 35:1, 2; Ezequiel 36:30 - Cobraron vida al retornar los judíos a su _____, creando "kibbutz y moshav" (Colonias _____ para el cultivo)

Han replantado zonas desérticas con métodos modernos y las terrazas. Hay más de 700 pueblos agrícolas. Una semana después de ser nación sembraron 4'000.000 árboles.

6. _____ - Salmo 147:16 - 18; Job 37:1 - 22; Salmo 135:7 - Reglas que determinan las diferencias climatológicas del país.
- a. La lluvia es _____ abundante al irse al _____, y menos al _____.
 - b. _____ la cantidad al proceder hacia el _____ (alejarse del Mediterráneo)
 - c. Al irse _____ a las montañas hacia el este, _____ la caída de _____.
 - d. La cantidad de lluvia disminuye en el lado _____ de las montañas.
 - e. Las temperaturas son más _____ cuanto más alto se _____ en las montañas.
 - f. Cuanto más se _____ uno del mar, más aumenta la _____.

NOTA: El clima es muy variado, pero en su mayoría es sano por encontrarse en los grados 31" y 33' latitud norte, su clima debe ser subtropical y temperatura media, una tierra de cielos azules y temperaturas agradables.

7. _____ general de Palestina
- Amós 4:13; Salmo 65:6; 1 Reyes 20:28
- a. La _____ parte de los eventos _____ se llevaron a cabo en las _____.
 - b. La mayoría de las _____ se encontraban en las _____.
 - c. El las _____ se mencionan más de _____ y _____ 50 veces.

d. Los dos sectores montañosos se encuentran en el lado _____ y el otro en el _____.

8. _____ general de Palestina

[VEA MAPA # 4.]

a. Los _____ de Palestina forman dos _____: El Mediterráneo y el _____.

b. Quedan fácilmente determinados por los sistemas orográficos: la cordillera central y el altiplanicie _____.

c. La mayoría de los ríos son _____, aumentando su volumen en mayo y junio _____ en el verano. (Job 24:19; 1 Reyes 17:7; Josué 3:15)

d. Palestina tiene sus lagos y mares: _____ (Huleh) 2 metros sobre el Mediterráneo; el _____ de _____ (Cineret, Tiberias, Genezaret) 205 metros bajo el nivel del Mediterráneo; el Mar _____ (Oriental, Salado, Araba, etc.) 390 metros bajo el nivel del Mediterráneo; el Mediterráneo, Mar Grande, Occidental, Mar de los Filisteos). (Josué 11:5, 7; Núm. 14:11; Juan 6:1; Lucas 5:1; Zacarías 14:8; Génesis 14:3; Josué 3:16; Num. 34:6; Exodo 23:31)

9. La _____ de su Topografía - Salmo 65:11 - 13

a. Las _____: Son _____ las zonas a las que se les puede llamar dado el terreno accidentada, pero sí existen terrenos _____. Génesis 13:10 - 12

b. Los _____: Existen muchos valles _____ y fértiles entre las cordilleras, según la topografía del lado occidental son _____ y de poco declive y los de la

vertiente _____ cortos y precipitados.

Deuteronomio 1:7

- c. Los _____: No representan _____ regiones rocosas y estériles la mayoría de las veces tranquilas soledades, despobladas en gran parte, poco susceptibles al cultivo, pero cubiertos de buenos pastos. (Deuteronomio 8:15, 16; Exodo 15:38; Números 32:1)

V. OBSERVACION DETALLADA DE LAS DIVISIONES NATURALES

[VEA GRAFICAS # 5, 6.]

A. Perspectivas

1. Zonas Longitudinales

- a. La Llanura Marítima
- b. La Séfela
- c. La Cordillera Central
- d. El Valle del Jordán
- e. La Altiplanicie Oriental (Mesa)

2. Zonas Latitudinales

- a. La Llanura de Esdraelón entre Monte Carmelo y el Río Jordán (Valle de Jezreel)
- b. El Néguev - "El Mediodía" - Beerseba a Cades-barnea, el Arroyo de Egipto al Araba (Sihor)

B. Costas y Puertos

1. Costa

- a. Uniforme y sin _____ buenos

(1) El Monte _____ - Haifa es el único punto irregular al Mar.

(2) Ezion-Geber (Elat) - Mar Rojo - Viajaban a ese lugar.

(3) Un país agrícola y _____ - Salmo 107:23

(4) Los Fenicios - Líbano

(a) País de _____ - Isaías 23:1 - 7

(b) _____ y Sidón - Puertos más destacados

b. Dunas y _____

(1) Desde Cesarea hacia Egipto

(2) Rocas desechadas a la orilla, aguas invernales no llegan y forman pantanos

2. Puertos

a. Tolemaida (Acre, Aco) en Fenicia

(1) Tribu de Aser (Más deseada de toda Palestina) medieval

(2) Cabo norte de la ensenada de Aco formado por el Mte. Carmelo

(3) Haifa moderna - Un tapamar - rompeolas, cabo sur

(4) Creyentes en el tiempo de Pablo - Hechos 21:7

b. _____ - Entre Cesarea y Monte Carmelo - Manasés - Josué 11:2; 17:11

c. _____ - Manasés

(1) Puerto artificial por _____ el Grande - 15 hectarias

Tiempo romano duró doce años para hacerlo, más destacado - período romano (Honor Augusto César)

(2) Reseña histórica - Hechos 6:5; 21:10 - 14; 11:1 - 18 Evangelista Felipe

Centurión _____

Herodes Agripa I - Fue herido por el _____ - Hech. 12

d. Cesarea

(1) Pablo fue prisionero allí. - Hechos 23:25

(2) Pablo fue embarcado para Roma de este puerto - Hechos 25:27; 27:1, 2

e. _____ - Tribu de Dan

(1) Desembarcaron los materiales para el _____ y el palacio durante el reino de _____ -

2 Crón. 2:16 (80 kilómetros al sur de Cesarea y a 62 kilómetros de Jerusalem)

(2) _____ huyendo de Dios, se embarcó para Tarsis de Jope. (Jonas 1:3) - Poco fondo, más cercano a Jerusalén.

(3) _____ resucitó a _____ y recibió la visión de la sábana del cielo (Hechos 9:43; 10:5 - 48).

TAREAS SUGERIDAS:

1. *Hacer un mapa con las cinco divisiones naturales de Palestina (mapa de relieve).*

2. *Buscar cinco ejemplos bíblicos de los diferentes aspectos físicos de Palestina. (Texto y nombre de cada cosa en una hoja)*

Ejemplo: Cinco tipos de animales

Cinco montañas

Cinco ríos

Cinco tipos de árboles

Cinco tipos de minerales

Cinco desiertos

◆ LECCION 7.

3. Puertos Filisteos

a. Asdod - Azoto ("*Balneario*") Una legua del mar

(1) Capital de los _____ - 1 Samuel 5:1-21 - Pentápolis

(2) Templo de _____ (dios pez) 29 años capturaron

(3) Felipe fue hallado allí después de bautizar al _____ - Hechos 8:26 - 40

b. _____ - Jer. 47:7

(1) Topografía de Ascalón es rara

(a) Gran ciudad fortificada de los filisteos - 1800 A.C. (Asdod, Ecrón, Gat, Gaza)

(b) Dominaba todas las _____ por la _____

Tuvieron contacto con todas las gentes del mundo bíblico.

(2) Acontecimientos bíblicos (arca capturada)

(a) _____ mató a _____ hombres

(Jueces 14:19)

(b) Se menciona en profecía - Amós 1:7, 8

(c) Lugar del nacimiento de _____ el Grande

c. Gaza ("*fuerte*", "*fortificada*")

(1) Se menciona en el Antiguo Testamento mucho; una vez en Hechos - 6 km. del mar (más antigua)

(2) Una ciudad principal de los filisteos

_____ y _____ - Puerta del Oriente y Asia

(3) Acontecimientos

(a) _____ - Josué 11:22 - Una de las tres

(b) Mandaron tumores de _____ - 1 Sam. 6:17

(c) _____ quitó las puertas con los postes y se los subió a la cumbre del Monte _____
- 90 km. - Jueces 16:3

(4) Sansón fue _____ allí y en Gaza _____
Jueces 16

C. La Llanura _____

Longitud de Tiro al sur 24 km al sur y de Gaza 64 km. Tiene unos _____ km. desde el Líbano hasta Gaza interrumpida por el Monte Carmelo norte - Anchura 8 a 40 km (desde la costa hasta la Séfela)

Sector uberrimo codiciado por toda _____

1. La Llanura de _____ (Acre)
 - a. Al norte del Monte Carmelo
 - b. Una fértil aunque pequeña llanura.
2. La Llanura de _____ - 152 metros sobre el nivel del mar
 - a. Desde el Monte Carmelo hasta Jope (75 km) (13 a 23 km de _____)
 - b. No hay frontera entre la Llanura de Sarón y la de Filistea. La de Filistea alcanza a una altura mayor.
 - c. Sector más fértil y más habitado en la Palestina moderna.
3. La Llanura _____
 - a. Desde el Río de _____ hasta _____ - 112 km
 - b. Sector fértil - Trigo y cebada, ganado - Deut. 1:7

D. La _____

1. Situación
 - a. _____ entre la llanura y la sierra, frontera proyectora para la capital.
 - b. Fortificadas durante el tiempo de Israel antigua.
2. Extensión
 - a. Altura - 150 a 450 metros
 - b. Del Valle de Ajalón a Beerseba - Unos 112 km
3. Productos - Muy _____
 - a. Olivos, higos, uvas - 1 Corintios 27:28; 2 Corintios 1:15
 - b. Granos, cereales - 1 Reyes 10:27
 - c. Pasturaje
4. Población
 - a. Ciudades _____ - Josué 10:38, 39
Laquis, Debir, Libna, Asena, Betsemes - Josué 15:33 - 47
 - b. Frontera protectora del área montañosa
5. Pasos Septentrionales (norteños)
 - a. Monte _____
 - b. Cerca de _____
 - c. Otro más al _____
6. Pasos meridionales
 - a. Valle de _____

- b. Valle de _____
- c. Valle de _____
- d. Valle de _____

Por estos valles se pasa desde la llanura marítima hasta el altiplano de la sierra. La cordillera central al sur se presenta contrafuertes más precipitados.

E. La Cordillera _____ - Tercera división

1. La Serranía - Cadena de montañas
 - a. Continuación de la del Líbano
 - b. Parece de una distancia como un altiplano o mesa de Dan a Beerseba (288 km)
 - c. La más importante de todo el país.
2. Nombres antiguotestamentarios de los sectores de la cordillera.
 - a. La Serranía de _____ - Josué 19:50
 - b. La Serranía de _____ - Josué 20:7
 - c. La Serranía de _____ - Josué 21:11
 - d. La Serranía de _____ - Josué 11:21
 - e. La Serranía de _____ - Josué 11:21
3. Rasgos distintivos de los _____ sectores montañosos de los sectores de la cordillera central. Cada zona es diferente.
 - a. Las elevaciones macizas con declive gradual de _____.
 - (1) Las montañas de la Galilea superior son una alta meseta maciza quebrada con valles, cerros y lomas de no muy grande elevación. (365 - 840 m)
 - (2) Las montañas de la Galilea _____ son más _____ con valles fértiles que las separan. (Llanura de Esdraelón, Monte Tabor, Collado de More y Monte Gilboa) (150 - 550 m)
 - b. Las montañas _____ de Samaria, con mucho terreno cultivable.
 - (1) Desde la llanura el ascenso a la altiplanicie es una sucesión de terrados naturales.
 - (2) Colinas apartadas (Ebal y Gerizim)

(3) Por el sector oriental los montes descienden en grandes _____. Por el este es pronunciado.

c. La _____ montañosa y maciza de _____

(1) Más elevado - Jerusalén - 764 m; Hebrón - 909 m

(2) Más _____ con laderas pendientes por ambos lados.

(3) Sector menos fértil, más escabroso.

4. Sectores transversales

a. La llanura de _____

(1) La más extensa de Palestina

(2) Está situada entre las _____ de Samaria y las de _____ (Monte Carmelo - oeste; Gilboa y More - este; Monte Tabor - norte)

(3) Importancia - _____ - Bañada por el Río Cisón (30 - 90 metros sobre nivel del mar). Batallas - Apoc. 16:16; Jueces y 1 Samuel 31:1 - 5.

(4) Tiene tres _____ - Uno entre Tabor y Moreh, y Montes Galilea y Gilboa, y Gilboa y las colinas de Engamin.

b. El Néguev

(1) _____, semi-árido, agreste, y escarpado. Se aproxima al desierto.

(2) Se extiende por 96 km entre Beerseba y Cades Barnea, unos 11,650 km²

(3) Los judíos modernos están ocupando la región usando el agua desde el Lago de Merom - "Loes" - Polvo muy fértil.

(4) Había _____ y ciudades en la antigüedad.

5. Las Divisiones Políticas vienen probablemente como resultado de las divisiones naturales.

◆ **LECCION 8.**

F. El Valle del Jordán - Cuarta División

1. El Araba (hebrea) o el Ghor (árabe) - hondonada

- a. La _____ más _____ del mundo.
- b. En su sentido más amplio es la gran falla geológica que se extiende desde Siria hasta el Mar _____.
- c. El significado más estricto quiere decir la parte del transcurso del Río Jordán entre el Mar de Galilea y el _____
_____.

2. _____ Sectores de la Extensa _____

- a. La entrada de _____ - Números 13:21; 34:8; 1 Reyes 8:65
 - (1) Entre Líbano y el Antilíbano - 2776 - 3060 m
 - (2) El Valle de los Ríos Leontes y Orontes (Beqaa)
- b. Los Contrafuertes de _____ - Lomas y colinas intransitables
 - (1) Nace el Río Jordán al pie del Monte Hermón - 515 m sobre nivel del mar - en una caverna y se une con tres corrientes.
 - (2) Recorre 64 km hasta el Lago Merom.
- c. El Lago de _____ - Josué 11:5 - 7 - Un _____
 - (1) Moderno Huleh - No hay lago.
 - (2) El agua explotada para el uso en el Néguev.
- d. El Mar de _____ - 205 m sobre nivel del mar
 - (1) De Merom al Mar de Galilea - 24 km
 - (2) Antiguo Testamento - Cineret
 - (3) Nuevo Testamento - Galilea, Genezaret, Tiberias
 - (4) Rodeado por las montañas, menos por la Llanura de Genezaret tiene una pequeña playa circundándolo.

e. El _____ - La depresión del Valle del Jordán

(1) El Río Jordán se transforma en una _____
al saltar por un cauce torcido entre el Mar de
Galilea y el Mar Muerto (200 m de declive).

(2) El valle es la gran llanura que incluye las llanuras de
Jericó con una anchura de 22.5 km.

f. El Mar _____

(1) Más _____ de todo el valle y del mundo

(2) 390 m bajo nivel del mar

(3) Longitud - 76 km; ancho - 16 km

g. La falla meridional - El _____ - 160 km

(1) Desde el Mar Muerto hasta el Mar Rojo (Golfo de
Akaba)

(2) Un llano _____ (1 km de ancho) por muchos
kms. hasta unirse con el Valle Araba (Subida de
Acrabim)

G. La Altiplanicie _____ - Quinta División

1. La serranía de los Amorreos - Deut. 1:7; Números 21:13

a. Más uniformes y más altas - 850 m

b. Muchos _____ - bueno para _____, impropia
para la _____

c. Extensión del Antilíbano, parece un muro paralelo.

d. Su lindero oriental - el Desierto Siro-Arábigo

e. Jordania Moderna - Más allá del Jordán (Amán - capital) -
Media tribu de Manasés, Gad y Ruben

f. Tiene como _____ km de anchura.

2. Los cinco sectores de la Altiplanicie

Se dividía naturalmente por los _____ ríos principales de
esta región - El _____, El Arnón, el _____, y el
Jarmuc o Hieromax.

a. _____ - Números 21:4 - 910 m de altura - tierra
montañosa

(1) Al sur del Río Zered - piedras rosas, carmín y azules

- (2) Descendientes de _____ - Edomitas o Idumeos - Gén. 36:1
- b. _____ - Una meseta sinuosa de piedra caliza - 960 m
- (1) Entre los ríos Zered y Arnón
 - (2) Hijo de _____ - Deut. 2:9 - Rechazaron entrada a Israel.
 - (3) Monte Nebo - Enterrado Moisés - Deut. 34:1
- c. _____ - Números 21:24
- (1) Entre los Ríos Arnón y Jaboc - altas montañas - robles
 - (2) Otro hijo de _____ - Génesis 19:38
 - (3) Ammán - Capital de Jordania
- d. _____ - 112 km - paralela al Jordán
- (1) Del Río Jaboc al Río Hieromax o Yarmuc
 - (2) De Perea y Decápolis - Nuevo Testamento -
 - (3) Bosques, árboles frutales, viñas - Jeremías 8:22
 - (4) Sector más _____ del altiplano, florece de todo, ganadería y especias - Génesis 37:25
- e. El Basán
- (1) Se extiende desde el Río Jarmuc hasta el Monte Hermón.
 - (2) Escacés de lluvia y _____
 - (3) Granos y prados para ganado, rocío del Hermón
 - (4) Casi la misma área de las provincias _____
 - (5) Había sesenta pueblos amurallados - Deut. 3:4

VI. OROGRAFIA DETALLADA DE PALESTINA

A. La _____ parte de los _____ destacados en la Biblia referentes a Palestina fueron localizados en _____.

1. Las _____ importantes se hallan en las _____, montes o _____.
 - a. Hebrón
 - b. Jerusalén
 - c. Masada
2. La _____ nombra las montañas _____ veces, y las palabras *collado*, etc., más veces.
 - a. La _____ usa la palabra *monte* o *montaña* para designar tanto un cerro o picacho, como _____ o región montañosa.
 - b. _____ considera a los _____ como expresión destacada de su _____. Amós 4:13; Salmo 65:6.
- B. Las _____ de Palestina quedan fácilmente _____ por su _____ natural.
1. Dividida en dos secciones por la gran _____ del _____.
 2. Dos grandes sectores montañosos longitudinales - norte a sur
 - a. Los montes del _____: _____, Samaria y _____
 - b. Los montes del _____: _____, _____, Gad, _____ y Moab.

TAREAS SUGERIDAS:

1. Ubicar las doce tribus en las áreas naturales que les correspondió coloreando cada una de ellas. Aprenda dónde quedó ubicada en las divisiones naturales.
2. Marcar las ciudades de refugio en la tierra de Israel.
3. Poner una "X" en cinco lugares en las montañas que hubo lucha entre Israel y algún enemigo con cita bíblica y personajes.

◆ **LECCION 9.**

C. Las Montañas _____ - Según _____ toda esa comarca queda dividida en _____ con sus respectivos montes.

1. Las montañas de _____ (Galilea)

a. Galilea _____ - Con su meseta y valles intermedios, cerros y lo más, siendo la cumbre más alta el "Jabel Yarmuk" - 1,189 m - Cerca de Safed.

(1) El Líbano está incluido en ese sector aunque no lo conquistaron - 3,060 m - Jabel-Macmal el picacho más alto, El Blanco - piedra caliza y nieve - Josué 13:5.

(2) Esta región tiene una elevación de 365 - 840 m por término medio sobre nivel del mar.

b. Galilea _____ - Triangular en forma más _____ y populosa, más _____, compuesta de varias serranías transversales, con valles fértiles que las separan.

(1) Tiene elevación de 150 - 550 m sobre nivel de mar.

(2) Comprende los montes _____ (562 m), collado de More (544 m), _____ (504m X 12 km de largo X 5-8 km de ancho - Deut. 11:30; Jer. 46:18; 1 Sam. 28:4

2. Las montañas de _____ - Samaria

a. Son colinas _____ con abundantes terrenos cultivables.

b. Los montes más destacados son _____, 530 m, Esfiyeh, tiene 21 km de largo; _____, 924 m (Piedra, Lugar de las Maldiciones de la Ley Josué); _____, 924 m, Lugar de las Bendiciones de la Ley, Lugar Santo de los Samaritanos - Jer. 50:19; Isa. 35:2; Jos. 8:30 - 35

c. Entre estos montes se encontraba un verdadero _____
para todo el _____ - centro de gravedad política.

3. Los montes de _____ - Judea

a. Son montañas más _____ y compactas que las del norte.

b. Se extienden desde _____ hasta el sur por _____,
tomando mayor altura en Hebrón y descendiendo hasta el
Néguev.

c. Los montes de _____ - Salmo 125:2

[VEA MAPA # 7.]

(1) Tres del espolón _____: Ofel - 2 Crónicas
33:14; Moriah - Génesis 22:2; 2 Crónicas 3:1;

(2) Dos del espolón _____: _____ - Salmo
78:68; y Acra - Este lado es el más alto de
Jerusalén, "La ciudad superior."

d. Los montes de los contornos de _____

(1) Al noroeste de Jerusalén - Monte _____ -
Lc. 23:33

(2) Al noreste el Monte _____

(3) Al este el Monte _____ - Hechos 1:12

(4) Al sudeste el Monte del _____ - 1 Reyes
11:7

(5) Al sur el Monte del Mal Consejo

e. _____ en los Montes de Judá - Josué 14:11 - 15

f. Otros Montes menos _____

(1) Monte Halac - Jueces 12:15 - En las montañas de
Efraín

(2) Monte de Gaas - Josué 24:30 - En las montañas de
Efraín, Timnat-Sera

(3) Monte _____ - Josué 11:17

(4) Monte Gearim - Josué 15:10 - al noroeste de
Jerusalén

(5) Monte _____ - Salmo 42:6 - Un pico del Hermón

(6) Monte de _____ - Jueces 9:48 - al sudoeste de
Siquem

D. Los Montes del _____

1. Estos montes son la _____ del Antilíbano

a. Son mas _____, más pendientes y de mayor
elevación que los del occidente.

b. La _____ por término medio es de 850 m.

c. Este territorio visot desde el oeste a través de la depresión del
Jordán parece un muro paralelo al horizonte.

d. Suelo _____ apropiado para la _____, pero
se presta para la ganadería lanar y vacuno.

e. La meseta del norte es más _____ que la del sur donde
alcanza una altura de 1730 m.

2. Montes más importantes de la altiplanicie _____

a. El Monte _____ - Sirión o Senir - 1 Crón. 5:23;
Ezequiel 27:5

(1) Casi desprovisto de vejetación, majestuoso, coronado
de _____

(2) Tiene altura de 2,750 m.

(3) Nombre _____ - Jebel-et-thil, Jebel
Es-sheik - Monte de nieve, anciano.

(4) Es importante por el rocío y manantiales.

(5) Monte de la _____

b. El Monte _____ - Salmo 68:15 - El altiplano de este
mismo nombre.

c. El Monte de _____ - Génesis 31:21, 25 - 900 m

(1) Un lugar a lo largo de una cadena montañosa al sur
del Jaboc.

(2) También recibía el _____ nombre una parte de la cordillera del Monte _____ en occidente.

d. El Monte _____ - Números 27:12

(1) La cordillera que comprende varias serranías y cumbres.

(2) _____ y _____ y Peor eran parte de este promontorio.

(3) Sobre una de estas cumbres _____ vio toda _____ y murió - Deuteronomio 34:6

TAREAS SUGERIDAS:

1. Investigar dónde ocurrieron los episodios de los siguientes personajes. Dé pasaje bíblico y el monte donde ocurrió el evento.

a. Abraham ofrece a Isaac.

b. Jesús se fue al cielo.

c. Elías vence a los profetas de Baal.

d. Saúl y el ejército fue derrotado.

e. Conversación de Jesús con la Mujer Samaritana.

f. Se encontraban en sus faldas las ciudades de Banías y Cesarea de Filipo.

g. Conquistado por Caleb.

2. Traer mapa de relieve señalando los montes más importantes de Palestina.

◆ LECCION 10.

VII. HIDROGRAFIA DE PALESTINA - POZOS

A. Los sistemas fluviales de Palestina

Quedan determinados por la _____ del _____

1. La cordillera _____, la altiplanicie oriental, separadas por el _____ del _____.

2. Son _____ los sistemas fluviales de _____

a. La vertiente del _____ - Occidental

b. La vertiente del Jordán - Oriental

- c. La vertiente del Jordán tiene _____ afluentes - un _____ y otra _____
3. Son _____ los ríos _____ en el país, la gran mayoría son torrentes caudalosos en tiempos de _____ ("*wadis*") pero en estío menguan.
4. El sector _____ surtido de agua es el meridional - _____
5. _____ da importancia al _____ de la hidrografía de Palestina.
- _____ se mencionan en el A.T. 238 veces, en el N.T. _____
 - _____ se mencionan 170 veces.
 - _____ se mencionan 82 veces.

Gén. 2:10; Jeremías 2:10; Salmo 18:4; 83:9; Josué 18:45

B. El sistema fluvial de occidente - Mediterráneo

- A este pertenecen todos los riachuelos que _____ en la falda occidental de la cordillera central y corren hacia el oeste para desaguar en el Mediterráneo.
- Corrientes principales del Mediterráneo
 - El _____ corre hacia el norte terminando cerca de Antioquía.
 - El _____ nace cerca de Baalbec y corre al _____ terminando por _____. Su cause es similar al del Jordán.
 - Sihor-libnat es el belus que desagua cerca de la ensenada de Acco. Josué 19:26
 - _____ ("*serpenteado*") nace cerca del Monte Tabor, recibiendo agua de seis _____, uno de los más _____ del mundo. 1 Reyes 18:40; Salmo 83:9 - 15 km

e. _____ ("*vid escogida*") nace cerca de _____.
A _____ km del mar, desemboca entre Jope y Asdod.

Jueces 14:1, 5, 6; 1 Samuel 6:12 - Seco en verano.

f. _____ ("*fresco*") el más _____ del lado occidental,
nace en las montañas del _____. Desemboca a 8
km al sur de _____ - 1 Samuel 30:9, 10 - Se seca en
primavera.

g. _____ ("*negro*" "*turbio*") Arroyo de Egipto - 1 Crónicas
13:5; Números 34:5

h. Otros arroyos ("*wadis*")

(1) Caná, Gaas y Ajalón - Josué 16:8 - Nace en
Samaria. - 2 Samuel 23:30; Josué 10

(2) Sefata (Sant) Ela - 2 Crónicas 14:9 - 15 - Cerca de
Maresa - 1 Samuel 17:1, 2, 40, donde David
venció a Goliat.

(3) Gerar - un brazo del Bezor allá en la tierra filistea -
Génesis 26:1, 17 - 19

3. El mismo Río _____ con sus _____ principales y
lagos (mares)

a. El río más importante de todo el _____ y más bien
conocido - extraño y formidable "*el que desciende*"

b. Nace en las alturas del Líbano y Antilíbano al pie del Monte
Hermón. Tiene un descenso de 905 km, brotando a 515
m sobre nivel de mar. Corre 320 km al sur por toda la
falla geológica. Debería ser el doble por lo serpenteado de
su cause.

c. Tiene _____ sectores su _____.

(1) Los contrafuertes de Hermón 515 km corriendo 64 km
hasta el Lago _____.

(2) Del Lago de Merom hasta el Mar de Galilea - 24 km

(3) Del Mar de Galilea hasta el Mar Muerto - 194 km

(4) Tragado por el Mar Muerto

(5) Del Mar Muerto hasta el Golfo de Akaba - 160 km -
Otra vertiente.

d. Cabeceras principales del Río Jordán

- (1) Barregheit - Cerca del _____, es el más occidental del Jordán.
- (2) Hasbany - El más _____ pero _____ caudaloso.
- (3) _____ - Nace cerca de Dan. Es la corriente caudalosa, "el pequeño Jordán" pero corta.
- (4) Banías - Es más oriental y hermosa de las cabeceras del Jordán. La cabecera _____ del Jordán.

e. Inundaciones, vados y el Zor del Jordán

- (1) El Jordán suele desbordarse en los meses de marzo y abril - Josué 3:15; 1 Crónicas 12:15
- (2) Los vados son parajes de fondo firme, poca profundidad - Donde se puede pasar a pie - Josué 2:7; Jueces 3:28; 12:5 - Durante nueve meses
- (3) _____ es la _____ pantanosa, e impenetrable entre el Mar de Galilea y el Mar Muerto - Jer. 49:19; 50:44

C. Corrientes Principales del Sistema Fluvial Oriental - Jordán

1. Los afluentes del lado _____ - La mayoría son "wadis" la mayor parte del año.

a. Estos son los que nacen en el _____ de la cordillera central y vierten sus aguas en el Jordán.

b. Nombres de algunos wadis importantes

- (1) Wadi _____ - El más grande de ellos del lado occidental, nace cerca de Siquem.
- (2) Wadi _____ - De los pocos permanentes, 6 km de Jerusalén y Anatot - No está en la Biblia.
- (3) Wadi _____ (Querit) - El escondrijo de Elías - En sus cuevas con los cuervos - 1 Reyes 17:1 - 7
- (4) Wadi En Mar (_____) - Nace en una meseta al norte de Jerusalén pasa por el Monte Olivar y atraviesa el desierto de Judea al Mar Muerto. Juan 18:1; 2 Reyes 25:4; Nehemías 3:15

(5) Otros menos importantes: Wadi _____, que nace cerca de Nazaret; Wadi El Gire y el Jalu, en el Mar Muerto.

◆ **LECCION 11.**

2. Los Afluentes del Jordán por su lado oriental

- a. Río _____ (Hieromax) - No está mencionado en las Escrituras. Es el más al _____ y grande de la altiplanicie oriental. Nace en el altiplano de Basán. Desemboca 8 km al _____ del Mar de _____.
- b. Torrente de _____ (Wadi _____) - Un torrente permanente. Nace en los altiplanos de _____, 100 km - tiene un descenso de 900 m - barrancos y peñascos - Génesis 32:22 - 30; Jueces 11:12 - 28) - Galaad y Amón
- c. Arroyo de _____ ("*rugiente*") - Una enorme canada descendiendo entre rocas y precipicios altísimos - entre 518 - 458 m - _____ entre Moab y _____ - Números 21:13 - Bela de Rubén - 1 Crónicas 5:8, 9; Camino Real Internacional
- d. Torrente de _____ ("*exuberante*") - Es el Wadi El Ashy. Tiene una _____ profundidad. Fue frontera de _____ y Moab. Fin del desierto para Israel - Números 21:12; Deuteronomio 2:13, 14

D. Pozos y Manantiales en Palestina

1. Eran un factor de _____ - Números 21:16 - 18 - _____ de príncipes. Jueces 1:13 - 15 - Pactos y pleitos entre individuos - Génesis 26:20; 21:25 - 27
2. Los pozos tienen significado _____
 - a. Costumbre de nombrarlos por un acontecimiento ocurrido - Génesis 21:23; 16:14; 26:20, 22

b. Eran factor determinante para las vías de _____,
de un _____ de camino.

3. Algunos pozos y manantiales destacados

a. _____ y el pozo del juramento - _____ -
Génesis 21:30, 31

b. _____ e _____ y el Pozo del Viviente que Me Ve -
Beer-lahai-roi - Génesis 16:7, 14

c. _____ y el pozo en _____ - Génesis 24:10 - 20

d. _____ y los pozos en el _____ - Génesis 25:11;
24:62; 26:17 - 33

e. _____ y el pozo en _____ - Juan 4:5 - 11 - Bir-yakub

f. _____ y las aguas de Beer - Núm. 21:16 - 18; Isa. 15:8

g. _____ perseguido por _____ y el pozo de _____ -
1 Samuel 19:22 - 24

h. Los _____ de David y el pozo frente a _____ -
1 Crónicas 11:17

i. Salomón y sus estanques - Ec. 2:4 - 6 - Entre Belén y
Hebrón

j. Abner y Joab - Estanque de _____ - 2 Samuel 2:8 - 16

k. Otros Manantiales - Neftoa - Josué 15:9; Ensemes - v. 7;
Roel - v. 7; En-hacore - Jueces 15:19; Siloé - Nehemías
3:15; Juan 9:7; Gihon - 2 Crón. 32:30; Jericó - 2 Reyes
2:19 - 22

TAREAS SUGERIDAS

- 1. Investigar cuál es el río más largo del mundo, su nombre, ubicación y extensión.*
- 2. Investigar donde existen tres mares, nombre y extensión, que no tienen salida al mar.*
- 3. Investigar las riquezas del Mar Muerto y del Mar de Galilea.*

VIII. DESIERTOS, LLANOS Y VALLES

A. DESIERTOS

La variedad de la topografía no fue una casualidad. La Biblia menciona *"Un desierto grande y espantoso lleno de serpientes ardientes y de escorpiones y de sed, donde no había agua."* Deut. 8:15

1. Significado bíblico de la palabra "desierto"

a. Lugar _____

- (1) Génesis 16:7; 21:14 - 20 - Agar
- (2) Mateo 3:1 - Juan Bautista
- (3) Marcos 1:13 - Jesús en el desierto
- (4) Mateo 14:13 - Betsaida con sus discípulos

b. Una región árida sin vegetación - El Araba - Ezequiel 47:8

c. Nombre propio

d. Lugar devastado y desolado - Castigo

2. Principales desiertos de Palestina

a. _____ - Alimentación de los cinco mil

b. Los desiertos de _____

- (1) Bet-aven - Josué 18:12
- (2) Desierto de Jericó - al oeste de Jericó
 - (a) El Buen Samaritano
 - (b) David huyó de Absalón - 2 Samuel 15:28
- (3) Desierto de Gabaón - 2 Samuel 2:24
 - (a) Al oeste de Gabaón
 - (b) Batallas de Josué - Josué 10:13, 14
 - (c) Batalla de Joab - 2 Samuel 2:24

c. Los desiertos de _____ (Jesimón)

- (1) _____ km de largo y _____ de ancho - oriente
- (2) Desolado, cerros escabrosos
- (3) Se divide en _____
 - (a) Maón - David - 1 Samuel 23:24 - 28
 - (b) _____ - David - 1 Samuel 23:14 - 24

(c) _____ - David - 1 Samuel 24:1

(d) _____ - Josafat ganó la victoria contra Edom, Moab y Amón - 2 Crón. 20:20

(4) Dos profetas nacidos en el desierto

(a) _____ - El desierto de Anatot

(b) _____ - Usaron terminos del desierto en sus profecías.

(5) _____ - Se quedó en el desierto.

(6) La tentación de _____ en el desierto.

3. El _____ (Neguev) en la Península de Sinaí

a. Descripción

(1) Una región inmensa - El Mediodía

(2) La tierra seca o desecada

(3) Lomas secas y montañas rocosas

b. La Esperanza de Israel - Isaías 35:1

El desierto florecerá como la rosa.

c. Abarca el territorio desde cerca de _____ hasta el Golfo del Mar Rojo

El _____ de Egipto hasta el Wadi Araba

d. **Mucha de la historia de los Patriarcas aconteció en el Neguev.**

(1) Abraham, Isaac, Jacob, Esaú

(2) Caleb

B. LLANOS

1. La Llanura Marítima

a. Llanura de Acre

b. Llanura de Sarón

c. Llanura de Filistea

2. La Llanura de _____

3. La Llanura de _____

4. La Llanura de _____ (Números 25:1; 33:49)

Los mensajes dados por Moisés en el Libro de

5. La Llanura de _____ - Del Jordán

- a. La Vega de Jericó
- b. Josué
- c. Sedequías a Babilonia

6. La Llanura de _____

- a. Cerca de la ciudad de _____
- b. Se une con la de Esdraelón y la de Sarón
- c. José y sus hermanos
- d. Eliseo vivía en Dotán

7. Llanuras varias

- a. Llanura del _____ - Josué 11:17
- b. Llanos del _____ - Josué 11:6
- c. Llanura del Pilar - Jueces 9:6 - Siquem
- d. Ciudades de la Llanura - Valle del Jordán - Sodoma y Gomorra

C. VALLES

1. Datos generales

- a. El Valle del Jordán
- b. Muchos valles entre las _____

2. Significado bíblico

- a. Ghor (Gorja) - Valle de _____
- b. Wadi - Valle del lecho de un arroyo
- c. Lugar profundo
- d. División
- e. Un desfiladero
- f. _____

3. Valles Septentrionales

- a. Valle de Aven

b. Valle de _____

- (1) Entre More y Gilboa
- (2) Gedeón y los madianitas - Jueces 7:1 - 22
- (3) Saúl y su ejército contra los filisteos

4. Valles centrales

a. El Valle de _____ - Siquem

- (1) Entre Ebal y Gerizim
- (2) Jacob, José, Josué, Jesús

b. El Valle de _____ - Josué 10:12

- (1) El valle más importante del movimiento de la llanura marítima a la cordillera central.
- (2) Ancho - Fue a Bethel o a Jerusalén. - Josué 10:10 - 15; 1 Samuel 14:31

c. El Valle de _____ - Josué 7:26 - Cerca al Mar Muerto -

La muerte de Acán después de Hai.

d. El Valle de Carisim - artesanos - 1 Crónicas 4:14

5. Valles meridionales

a. Valles de Benjamín - Casis - Josué 18:21

b. Valles de Judea

(1) Valles de Refaím - Belén

- (a) David conquistó a los filisteos dos veces - agua de Belén.
- (b) Sudoeste del Valle de Hinom que va de Belén a Jerusalén.

(2) Valle del _____ de _____ - Jerusalén

Lugar del fuego - _____

(3) El Valle del _____

(4) El Valle de Gerar

(5) El Valle de _____ - El Valle de Sal

Es - Sebkna, al sur del Mar Muerto

(6) El Valle de Mamre

- (a) Al norte de Hebrón
- (b) Abraham vivía allí

- (7) El Valle de Hebrón
- (8) El Valle de Escol - Los espías cogieron racimos de uvas para llevar a Moisés.
- (9) El Valle de Zaanáim - Junto a Cedes
- (10) El Valle de Beraca - Cerca de Tecoa - Victoria sobre Edom, Amós y Moab
- (11) El Valle de Save - Salem - Posible junto a Samaria o Jerusalén

6. Valles proféticos

- a. Valle de _____ - Juicio de las naciones - Joel 3:2
- b. Valle de la Decisión - Muchos pueblos reunidos - Joel 3:14
- c. Valle de _____ - Este del Mar Muerto

TAREAS SUGERIDAS

1. Investigar cuáles son tres de los más grandes desiertos del mundo y dónde se encuentran.
2. Marcar en un mapa de relieve con colores distintos: Principales desiertos, valles y llanos de Palestina.
3. Buscar cinco personajes que tuvieron su vida o ministerios cerca de algún desierto.

◆ **LECCION 13.**

IX. VIAS DE COMUNICACION

[VEA MAPA # 8.]

- A. Un Mojón - Marca o señal
 1. Un símbolo mediante el cual se puede medir el progreso de la comarca (Región o territorio)
 2. Un medio por el cual la civilización se desarrolla.
- B. El porqué del tema - Caminos y pozos - Salmo 107:7, 8
 1. En regiones sin _____ no hicieron _____ los caminos.
 - a. Imposible fue que pasaran las caravanas y los ejércitos.
 - b. Los animales y la gente necesitaban agua potable en el camino.

2. Los _____, manantiales (oasis) fueron los parajes donde _____
_____. Génesis 16:7

C. Palestina - Malla (Red) de caminos

1. Hace 2.000 años el _____ hizo una malla (red) de carreteras en Palestina.
2. Hace 4.000 años Palestina servía de puente entre los grandes imperios del Valle del Río _____ y _____

D. Factores que determinan el rumbo de los caminos

1. La _____
- a. Las divisiones naturales longitudinales
 - b. Caminos del norte al sur
2. _____ de paso _____
- a. Las cordilleras
 - b. Los sectores pantanosos
3. _____
- a. Un factor sumamente vital
 - b. Agua permanente donde las caravanas pudiesen obtener agua con _____.

E. Las Cuatro Puertas Septentrionales - de las cuatro rutas principales

1. La puerta de Siria - Damasco
- a. Todos los caminos del noreste llegaron a _____.
 - b. El _____ lugar en la región con _____.
2. La puerta de _____ - La entrada del sector de la costa
3. La puerta de _____
- a. Pasaba al _____ del lago - La vía a _____
 - b. Pantanos al norte del lago.
4. La puerta del _____ de _____
- a. Al oeste del Monte Hermón

b. El Valle de los Ríos Leontes y Orontes

F. Las cuatro puertas _____

1. La puerta de la costa - _____

a. Puerta y puerto

b. Camint de _____ por la costa

2. La puerta de _____ - Beerseba

a. Camino de Egipto por Cades-barnea y el _____

Los israelitas antes de los 40 años de castigo

b. Camino del _____ de Akaba - Al Mar Rojo

Hasta Africa, India y Arabia - Ruta marítima

3. La puerta del Camino _____

a. Petra - desde Arabia

b. Los israelitas pasaban por este camino en su viaje a

4. La puerta del _____

a. El camino más oriental que pasaba por las estepas (savanas) del Altiplano oriental

b. Caravanas de Arabia

G. Caminos principales en Palestina

_____ caminos pasaban del norte al sur.

1. La ruta _____

a. Entre _____, Siria y Egipto

b. Entra por _____ y sale por _____

Génesis 37:25 - José llevado a Egipto

2. La vía de la _____ - El camino del occidente

Deuteronomio 11:30

a. Bajaba desde Fenicia por la llanura de Esdraelón, el Valle de Dotán y la sierra a Hebrón y el Neguev.

b. Abraham lo usó en sus viajes. Génesis 12:6; 13:18

3. Las dos vías de la altiplanicie oriental

a. El camino _____ - Números 21:22

- (1) Desde _____ a Elat (Ezion-geber) por el Mar Rojo
- (2) Los israelitas pasaban por este camino al ir a Canaan.
- b. El camino de los _____
 - (1) Más oriental
 - (2) Por la orilla del Desierto Árábigo - Camino de Basán - Números 21:33
 - (3) Caravanas a la India
 - (4) Los mahometanos lo usan para ir a la Meca.
- 4. La vía del _____ y de _____ - Deut. 2:8; 2 Sam. 4:7
 - a. Desde el Golfo de Akaba hasta el Mar Muerto
 - b. Minas de Cobre de Salomón
- 5. Caminos vecinales - _____ de este al oeste
- 6. Caminos de Galilea
 - a. Herodes Antipas
 - b. Tráfico _____
- 7. Caminos modernos
 - a. Los israelitas usan los caminos antiguos y han hecho carreteras modernas.
 - b. Los árabes de Jordania tienen una buena carretera del norte al sur.

TAREAS SUGERIDAS

1. *En un mapa mundi marcar dónde están las ciudades: La Meca, Jerusalén, Nueva Delhi, Buenos Aires*
2. *Investigar ¿cuáles eran los medios de transportación más comunes en el mundo del Nuevo Testamento.*
3. *Trazar un mapa las siguientes rutas que siguieron estos personajes (un color para cada ruta)*
 - a. *Eliezer buscando esposa para Isaac*
 - b. *La Reina de Saba viniendo a ver al Rey Salomón*
 - c. *Huida de Elías de Jezabel*
 - d. *José y María huyendo de Arquelao*
 - e. *Naves de Salomón partiendo a Tarsis*



X. CLIMA, LLUVIA, ESTACIONES Y VIENTOS

A. El Clima

1. Generalidades - Salmo 147:16 - 18

a. Marcados _____ climáticos

(1) Topografía tan variada

(2) Una área _____

b. Un _____ crudo y un _____ tropical en una distancia de pocos kilómetros

(1) Las elevadas cordilleras

(2) El _____

c. El conflicto entre el efecto atmosférico del desierto oriental y el Mar Mediterráneo.

2. Las temperaturas climáticas - contrastes increíbles

a. La llanura marítima - moderado 14° a 16° C.

b. La cordillera - 0° C a 17° C

c. El valle del Jordán - 28° C a 50° C con mucha humedad tremenda

B. La Lluvia y las Estaciones - Isaías 18:6; Zacarías 14:8

[VEA GRAFICA # 9.]

1. Dos estaciones - La _____ y la _____ - El factor de mayor importancia para los palestinos fue la _____. La vida depende de ella.

2. Las lluvias _____ - Jeremías 5:24, 25

a. Caen desde mediados de octubre hasta el _____ de enero. - El año agrícola empieza con la _____.

b. _____ es el mes de más _____ y más _____ - a veces granizo

c. Febrero y marzo - _____ lluvia.

3. Las lluvias _____ - Santiago 5:7
 - a. A fines de _____ y principios de abril
 - b. Lluvias intermitentes
4. La primavera
 - a. Desde mediados de _____ hasta lo mismo de _____
 - b. Lo mejor del año
5. El estío, la _____ - Josué 3:15
 - a. Desde mayo hasta octubre - seco
 - b. Tiempo de la _____
 - c. Hay mucho calor de agosto a octubre.
6. El invierno
 - a. El tiempo lluvioso y frío después del otoño, cuando terminan las cosechas de las uvas, olivos, granadas y legumbres.
 - b. Noviembre a febrero (o a veces hasta abril)
La Crucifixión - Juan 18:18 - un fuego
 - c. El nacimiento de Cristo - tiempo no muy _____
7. El rocío y la neblina
 - a. El rocío es copioso en Palestina.
 - b. Se le acredita al Monte Hermón.
 - (1) Sube el aire cálido y húmedo.
 - (2) Al topar el aire con la tierra fría del monte, la humedad se condensa y cae en rocío.
 - (3) Refresca las altiplanicies durante el estío (el tiempo seco)
 - (4) Gedeón - Jueces 6:38
 - c. Responsable por el crecimiento de las uvas durante el tiempo seco.
8. El Granizo - Job 38:29, 30
 - a. La llanura marítima
 - b. Dios lo usó como _____
 - (1) Sobre los amorreos - Josué 10:11
 - (2) Sobre Israel - Ezequiel 13:13
 - (3) La séptima copa - Apocalipsis 16:21

9. La falta de lluvia como juicio - 2 Crónicas 6:26, 27

- a. Deuteronomio 11:13, 14 - No haya _____ temprana y tardía
- b. Deuteronomio 28:23, 24 - La sequía _____
- c. 1 Reyes 17:1 - Elías
- d. Viento siroco - Oseas 13:15

C. Vientos

1. Rasgos generales - La diferencia de temperatura del aire y de la tierra.

2. Los vientos predominantes

- a. El viento del _____ trae el _____.
- b. El _____ del sur - el _____.
- c. El viento del _____ - la _____.
- d. El viento del _____ - la _____.
- e. Lucas 12:54 - Cristo dijo: *Cuando veáis la nube que sale del poniente, luego decía: agua viene; y así sucede.*

Elías miró hacia el mar - 1 Reyes 18:41 - 46

3. El siroco - viento solano

- a. Sopla durante el _____
- b. Trae _____ y _____ del sur.
- c. Jeremías 4:11, 12

4. Euroclidón - El viento del _____ que causa una tempestad del mar - Hechos 27:14 - Pablo

5. El viento - Un símbolo bíblico

- a. La _____ - Job 15:2
- b. Velocidad - _____
- c. Cosas pasajeras - _____

d. El _____ - Juan 3:8

e. El _____ - El solano - Ez. 17:10

f. La inestabilidad - Santiago 1:6

g. Los impíos - Judas 12

D. Peroración - La naturaleza obedece a su Creador - Marcos 4:41

1. La *obediencia* a Dios traía la bendición material y espiritual.

2. La *desobediencia* a Dios traía castigo.

a. Las lluvias tempranas y las tardías

b. El viento siroco

TAREAS SUGERIDAS

1. Traer 15 textos bíblicos que hablen sobre: *frío o calor; granizo y/o truenos; lluvia y/o sequía; nieve y/o viento.*

2. Buscar 3 relatos de incidentes bíblicos donde se desarrollaron durante alguna situación climatológica.

3. *¿Cuáles son los nombres bíblicos de los vientos del norte, sur, este y oeste?*

4. *Investigue el nombre de todos los meses del calendario judío y su equivalente a nuestro calendario.*

◆ LECCION 15.

XI. ASPECTO ECONOMICO DE PALESTINA

[VEA MAPA # 10.]

A. La _____ divina sobre la _____ garantizada -
Deuteronomio 8:7 - 9

1. _____ prometió bendición en la _____ -
Deuteronomio 7:12, 13 - _____ de la _____ de
Israel.

2. La promesa también incluía la ganadería - Deuteronomio 7:14

3. A inicios del Siglo XX Palestina no era lo que Dios había prometido.

a. Una tierra _____

b. Sin _____

- c. Casi sin valor alguno
- d. Un desequilibrio ecológico

4. Factores para el resurgimiento económico del Israel _____

- a. Un nuevo _____ por la _____ de parte de las naciones europeas.
- b. Las _____ colonias _____ de la era moderna en 1870.
- c. La _____ del primer _____ - Gaza a Jerusalén - 1892.
- d. La urbanización del _____ y Tel-aviv.
- e. La apertura del moderno puerto de Haifa en 1933
- f. La proclamación de _____ como _____ el 14 de mayo de 1948

B. La Fertilidad de la Tierra

- 1. Es _____, siempre y cuando se pueda obtener _____.
- 2. A pesar de la erosión, el aluvión es llevado a los _____ - lodo con agua.
- 3. _____ son las clases de cultivo más importantes
 - a. _____
 - b. _____
 - c. _____
 - d. _____

C. Sementera y Cosecha

- 1. La _____ comenzó cuando los hombres se dieron cuenta que en lugar de recolectar plantas silvestres, podían _____ en un mismo lugar.
 - a. Los primeros lugares de _____ fueron aquellos donde crecían las variedades silvestres.
 - b. Después se fueron desarrollando instrumentos agrícolas y técnicas de irrigación.

2. La _____ de Palestina depende de las aguas
 _____ - Deuteronomio 11:10 - 15
- Las _____ tempranas en otoño (octubre, noviembre)
 comienza la arada y la sementera - Salmo 65:10
 - La temporada de lluvias es en diciembre y enero.
 - Las lluvias tardías son las de marzo y abril.
3. Las cosechas son tiempo de _____ - Isaías 9:3 - Júbilo
 espiritual.
- Las cosechas de las frutas eran en septiembre a noviembre.
 Jeremías 40:10, 12; 41:8
 - La cebada se cosechaba en marzo y abril y el trigo - fiesta de
 las gavillas.
 - En _____ (fiesta de las cosechas) era en mayo
4. Temporada y zona de principal fertilidad
- _____: Primer grano que se _____ en noviembre
 en la llanura _____, Jezreel, Esdraelón,
 pequeñas _____ de la cordillera central y
 altiplanicie oriental. Más importante, gente rica.
 - _____: Segundo grano que se siembra en sectores secos
 del _____ y _____ de Judea.
 - _____: Fruto principal de las _____ y lugares altos
 - Galaad y sur de Palestina, cosecha en _____ y _____
 - _____: propia del clima Mediterráneo, llanura
 marítima, Galilea, Samaria, Judea y occidental
 altiplanicie oriental - Cada dos años agosto a octubre
 - _____: _____ frutos en _____, cosecha
 principal en agosto - Muy típico en huertos caseros.

f. _____ - La era moderna - propia de la llanura marítima durante _____.

D. Ganadería en Palestina

1. La economía _____ es un factor importante.

a. _____ - Génesis 4:2 - Abel

b. _____ - Exodo 36:14 - Moisés, tabernáculo

2. También tenían como parte de su ganado:

a. Vacuno - Génesis 1:25; 1 Reyes 8:63

b. _____ - Jer.2:23; Jueces 6:3, 5

c. _____ - 150 veces - Génesis 47:17

d. _____ - Números 22:28 - 150 veces

E. La Minerología

1. Minerales en la Biblia

a. Piedras preciosas - Ezequiel 3:9 _____ - Exodo 28:19; Proverbios 3:15

(1) Pectoral de Aarón - Exodo 28:15 - 22

(2) Piedras preciosas del fundamento de la Ciudad Santa - Apocalipsis 21:18 - 21

b. Minerales - Proverbios 26:23; Ezequiel 22:18

(1) _____, plata, bronce (cobre), _____, plomo, estaño (tin), mercurio, _____, fueron conocidos a los antiguos de la Biblia.

(2) Usos

(a) Tabernáculo, templo

(b) Arados, hachas y _____ (construir estos

(3) Tabla periódica: de los 103 elementos conocidos al hombre actualmente, 78 son minerales.

Los más comunes mencionados: _____

- Mateo 26:7; azufre - Génesis 19:24; mármol -
1 Crón. 29:2

2. Zonas minerales - 1 Samuel 13:19

a. Tierra de _____ - Arabia - _____

b. El _____ - madianitas (oro, plata, cobre, _____,
estaño y plomo.

c. Edom - cobre y hierro - Israeo _____ estas cosas.

d. El Valle del _____ - Hierro y cobre - Zona más
destacada

e. _____ - refinería de Salomón - 1 Reyes 7:46

f. _____ tenía que traer de otros _____ la mayoría de
sus minerales.

3. Metalurgia en tiempos de los reyes de Israel - 2 Crónicas 8:6

a. Saúl a Salomón - Desarrollo _____ - 1 Reyes
7:45 - 47; 9:26

b. Elot (_____) - puerto importante - 2 Crónicas 26:2

c. La flota mercantil - 1 Reyes 10:14 - 29; 9:26

TAREAS SUGERIDAS

1. Busque en las Escrituras 10 actividades del aspecto económico mencionado en ellas (texto y actividad).
2. Traiga escrito los nombres de 10 plantas de la economía y producción judía con sus textos.
3. Haga un mapa económico de Israel señalando las diferentes producciones: uva, trigo, cebada, pescado, hierro, naranja, camello.

XII. EL CANON BIBLICO EN EL MUNDO BIBLICO

A. Los libros de la Ley - Pentateuco

1. _____ tiene que ver con _____ lugares importantes.
 - a. En su sentido más extenso con todo el _____.
 - b. Pero hay tres _____ bien definidas - Gén. 10:32
 - (1) _____ - cuna del primer Adán - Génesis 2:14
 - (2) Israel mismo
 - (3) _____ donde estuvieron 400 años esclavos - Génesis 15:3
2. _____ inicia en _____ (Exodo 1:1; 2:15) hasta las faldas del Monte _____ - Exodo 31:18 - Horeb - Exodo 33:6
3. _____ dado unos cuantos días después de haber erigido el tabernáculo en Monte Sinaí y su partida a Canaán - Números 10:11, 12; Levítico 27:34
4. _____ inicia donde termina el libro de Exodo. Son las jornadas de _____ durante el _____ por 38 años - Números 1:1; 36:13 - hasta los campos de Moab.
5. _____ - la reunión cumbre de Moisés en los llanos de Moab _____ la ley - Deut. 1:1, 5

B. Los Libros Históricos de Israel

1. _____ - estando frente a Canaán en Transjordania - Josué 1:2; 2:2 - y la _____ del país.
2. _____ - la _____ conflictiva de _____ y sus _____ (Jueces 1:1) hasta el tiempo de _____

3. _____ - durante el tiempo de los jueces - _____
e _____ - Rut 1:1, 19
4. _____ - Nos narran la _____ de
_____ y sus _____ con _____ vecinos.
1 Samuel 4:1; 2 Samuel 1:1
5. _____ y _____
Cubren el mismo período que Samuel, pero con un propósito
diferente. - Las _____
6. _____ y _____ nos hablan de la cautividad
babilónica y su regreso a Israel - Esdras 1:3; Nehemías 1:2
7. _____ - la historia de los _____ en
tiempo de los persas - Ester 1:1 - 5

C. Los Libros Poéticos

1. _____ su historia se desarrolla en la tierra de Uz - Edom - Job
1:1 - 3; Lamentaciones _____
2. _____ son en su mayoría _____ de alabanza para el
pueblo de Israel y su _____.
3. _____ - dichos sabios de uso cotidiano en _____
4. _____ - se desarrolla en la vida de un sabio
intelectual de Israel - Salomón.
5. _____ - los amorios del rey Salomón con una provinciana
de Israel - Sunem - por Jezreel
6. _____ - descripciones de _____ por la
_____ de _____

D. Los Libros Proféticos

1. _____ - narra los _____ del profeta a Israel y sus
_____ humanas - 740 - 600 A. d. C.

2. _____ - _____ a Israel y su _____
- 625 - 586 A.d.C.
3. _____ - _____ del profeta en el exilio
babilónico, y aliento a los cautivos, y a los residentes en
Jerusalén - 592 - 568 A.d.C.
4. _____ - vida de los _____ en _____ y
profecías sobre Israel - Daniel 1:1
5. _____ - ministrando a un _____ idolátrico, instándolo a
volver la amor de Jehová - 746 A.d.C.
6. _____ - ministrando en Jerusalén - 1:14; 2:1, 15, 32
7. _____ - juicios contra Israel - 785 - 740 A.d.C. - 1:1
8. _____ - Profecía contra _____
9. _____ - mensaje de salvación a _____ - 1:2; 2 Reyes
14:25 - _____
10. _____ - profeta de _____, cerca de Gat -
predicó contra _____ e _____ - 738 - 698 A.d.C. - 1:1
11. _____ - profeta de _____ (Judá) y profetizó contra
_____ - 1:1 - 620 A.d.C.
12. _____ - profetizó contra _____
13. _____ - profetizó contra _____
14. _____ - profeta del _____ - anima a la reconstrucción
del templo en _____ - Esdras 5:1
15. _____ - Contemporáneo de Hageo, Nehemías y Esdras
16. _____ - último profeta del Antiguo Testamento - la
infidelidad de Israel en su _____ por el 432 A.d.C.

TAREAS SUGERIDAS

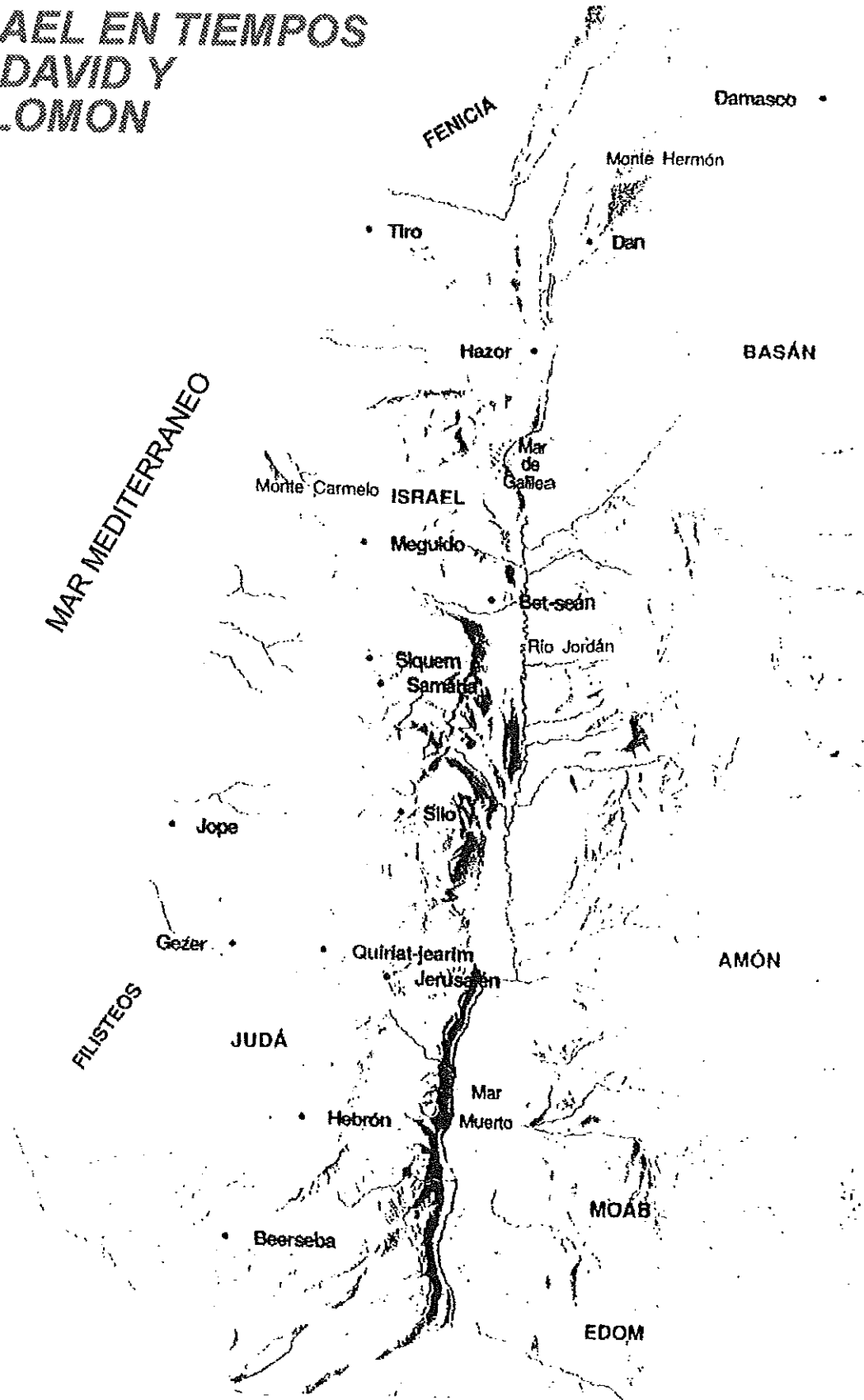
1. *Haga un mapa del mundo Mediterráneo y marque la extensión del cristianismo hasta el tercer siglo de la época del Nuevo Testamento.*
2. *Localizar los lugares donde se desarrollan principalmente los libros del Nuevo Testamento, geográficamente, marcándolos en un mapa.*

BIBLIOGRAFIA

1. *Nuevo Atlas Bíblico*, J. H. Paterson y D. J. Wiseman
2. *Geografía Histórica*, Netta Kemp de Money
3. *Geografía Bíblica*, Tidwell - Pierson
4. *Israel: Pasado, Presente y Futuro*, Homer Duncan
5. *Israel y las Naciones*, F. F. Bruce
6. *La Vida en los Tiempos Bíblicos*, J. J. Packer, et al
7. *Diccionario de Ilustraciones de la Biblia*
8. *La Historia de la Iglesia Cristiana*, Hurlbut
9. *Jesús y los Tiempos Bíblicos*, Reader's Digest
10. *Geografía Sagrada I-C-B-10*, Fe de Turner
11. *Fascinante Mundo de la Biblia*, Nelson Beacher Reyes
12. *Nuevo Manual: Usos y Costumbres de los Tiempos Bíblicos*, Ralph Gower

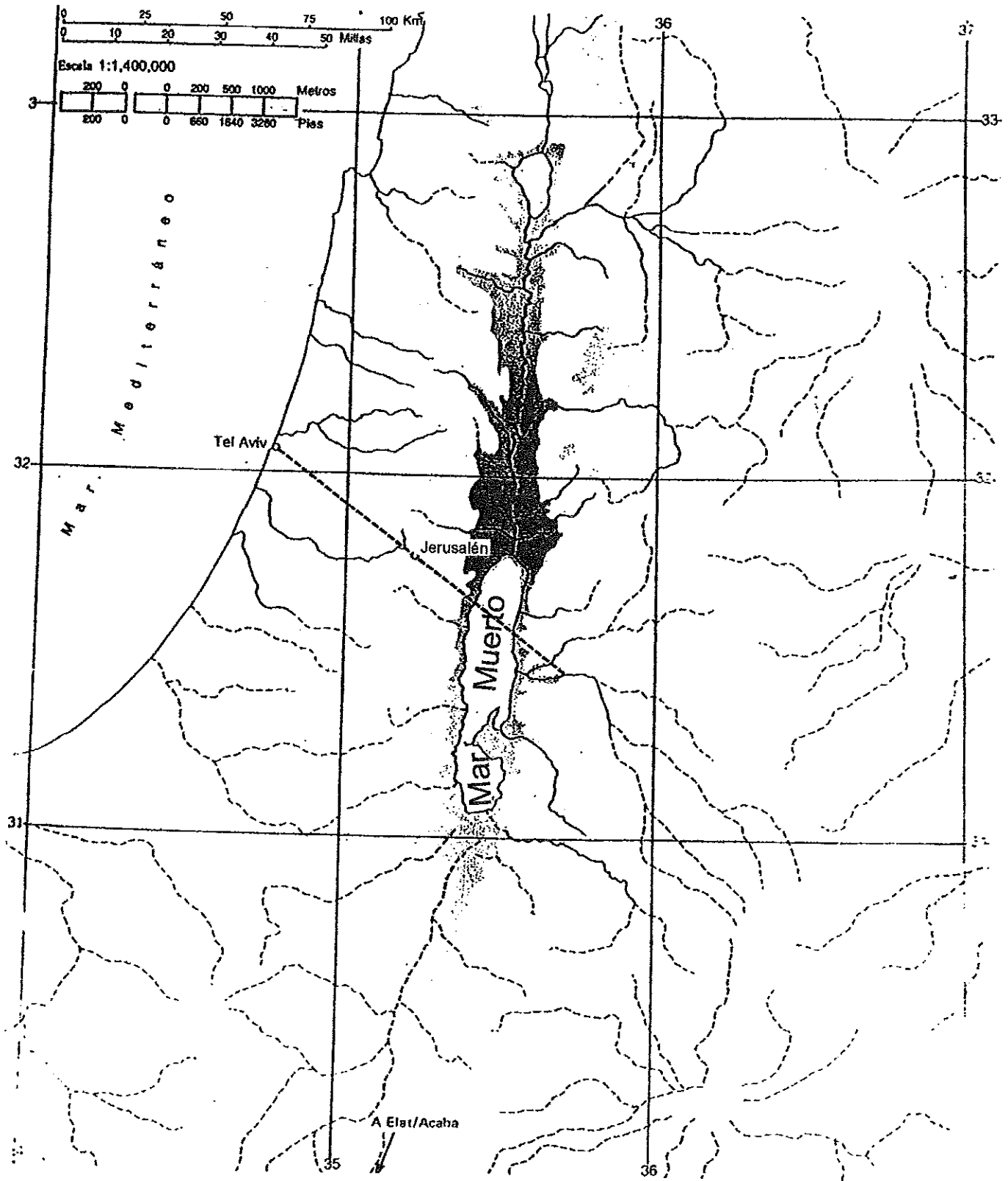
Mapa # 1

**ISRAEL EN TIEMPOS
DE DAVID Y
SALOMON**



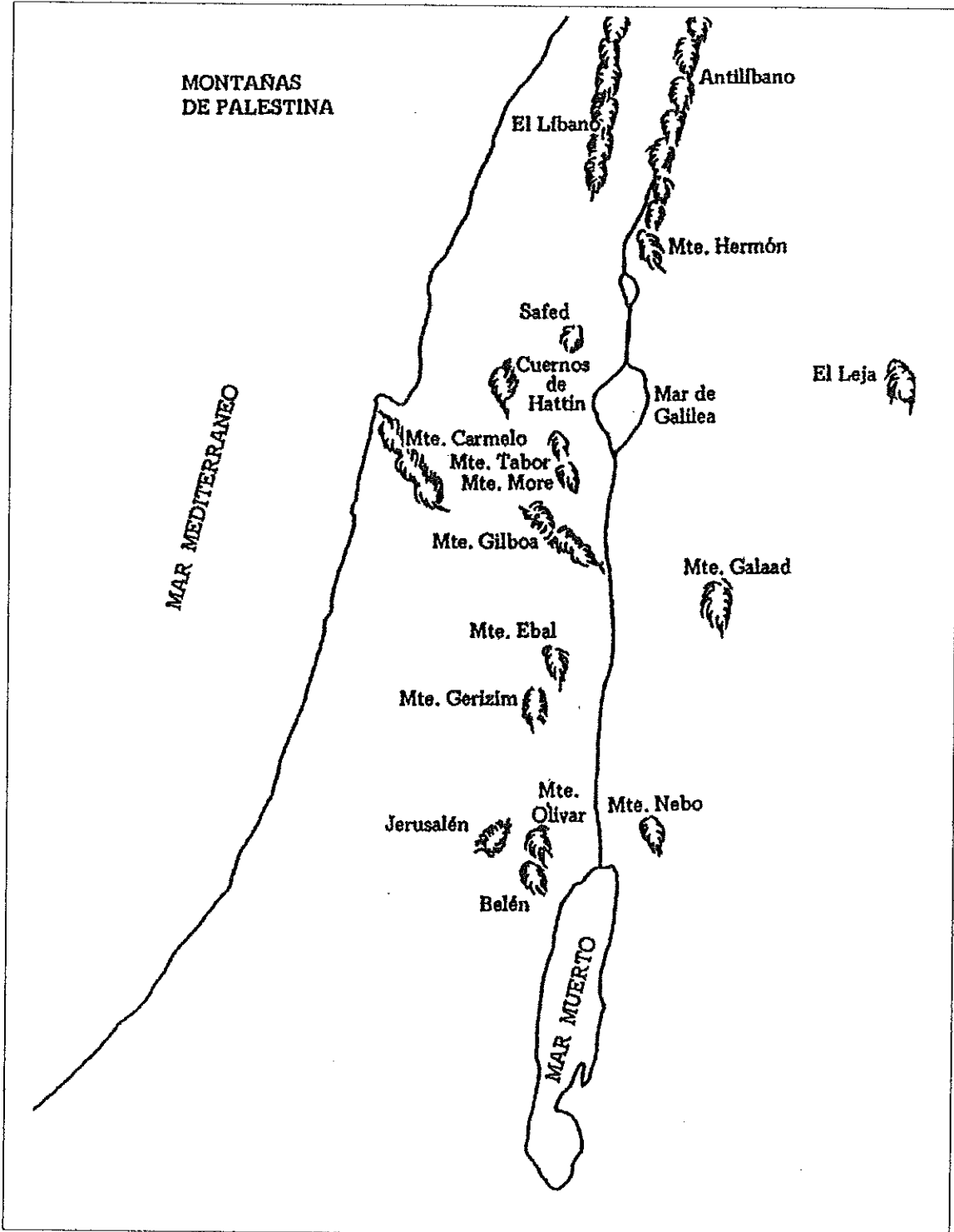
Mapa # 2

TIERRA SANTA - MAPA GEOLOGICO

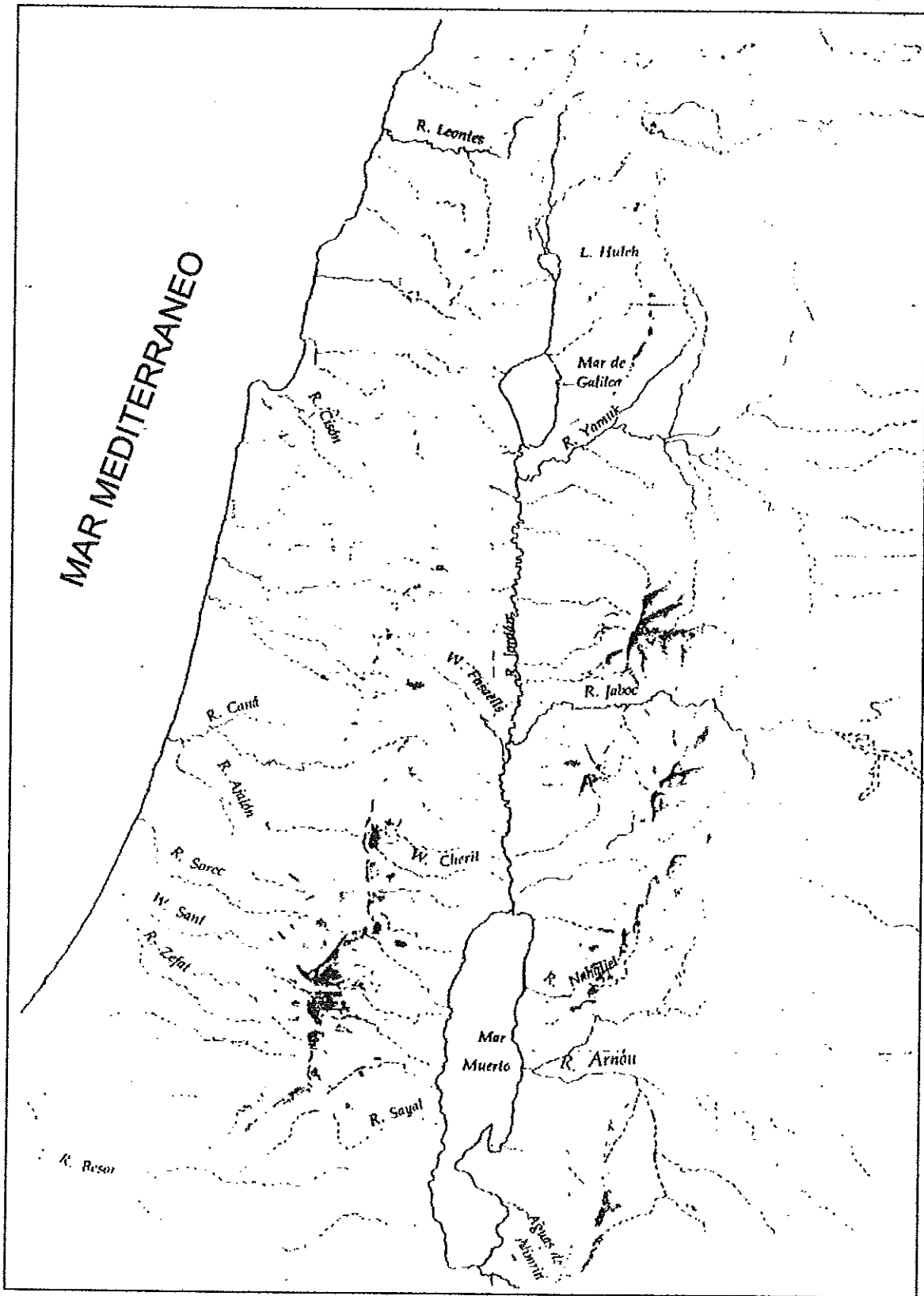


Mapa # 3

OROGRAFIA




PALESTINA: LAS PRINCIPALES CORRIENTES

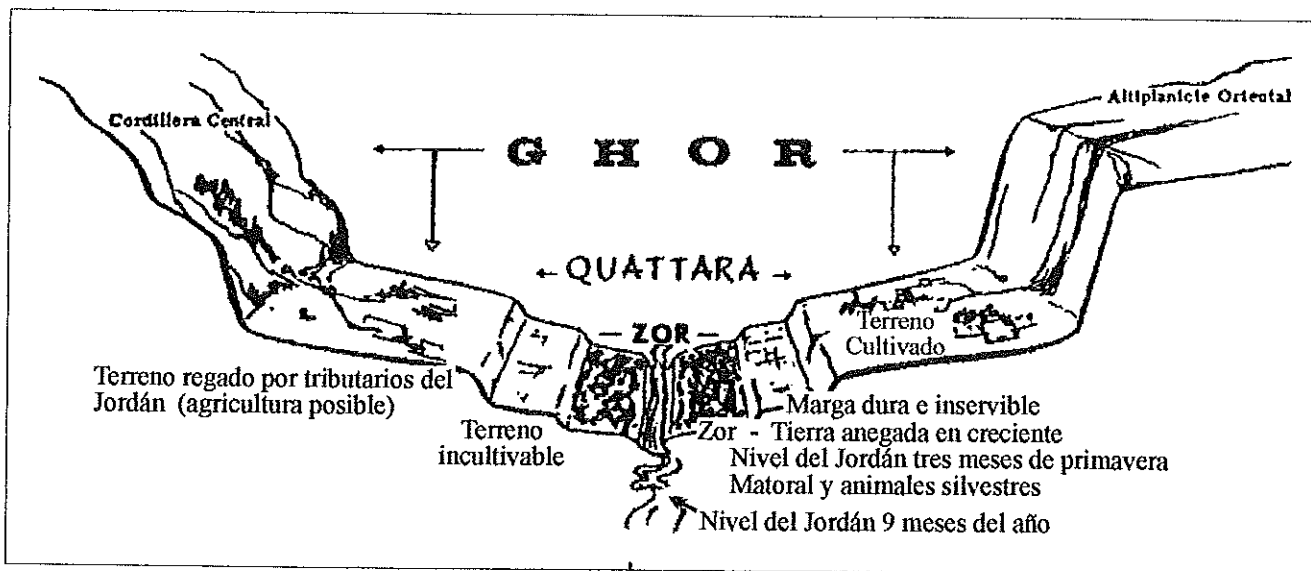


Gráfica # 5

TOPOGRAFIA DE PALESTINA



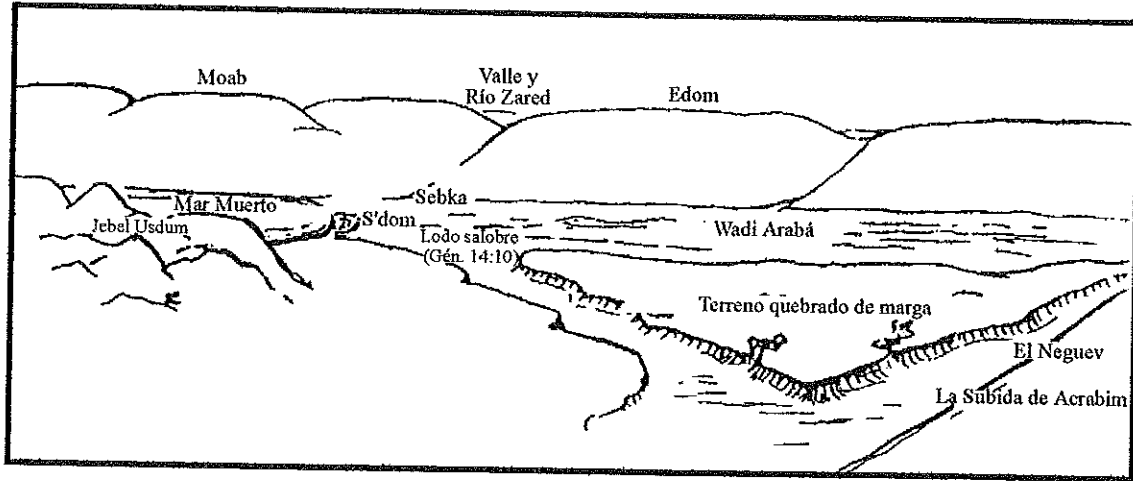
Un mapa de Palestina, visto desde el Este, en el cual se puede apreciar los montes que forman la cordillera central. También se ve la depresión que dio raíz al Río Jordán y los conocidos mares.



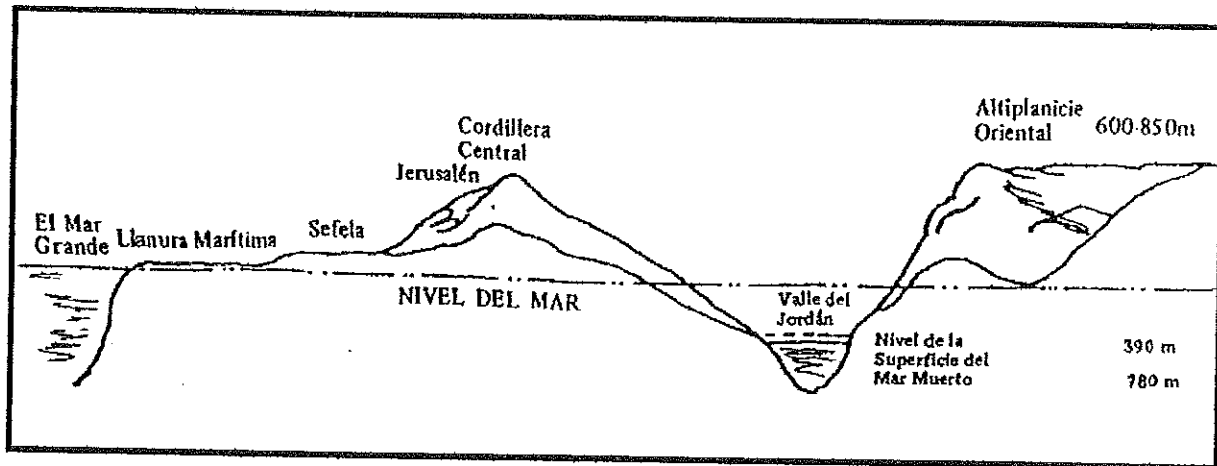
Corte seccional de la división triple del suelo del valle del Jordán

Gráfica # 6

TOPOGRAFIA DE PALESTINA



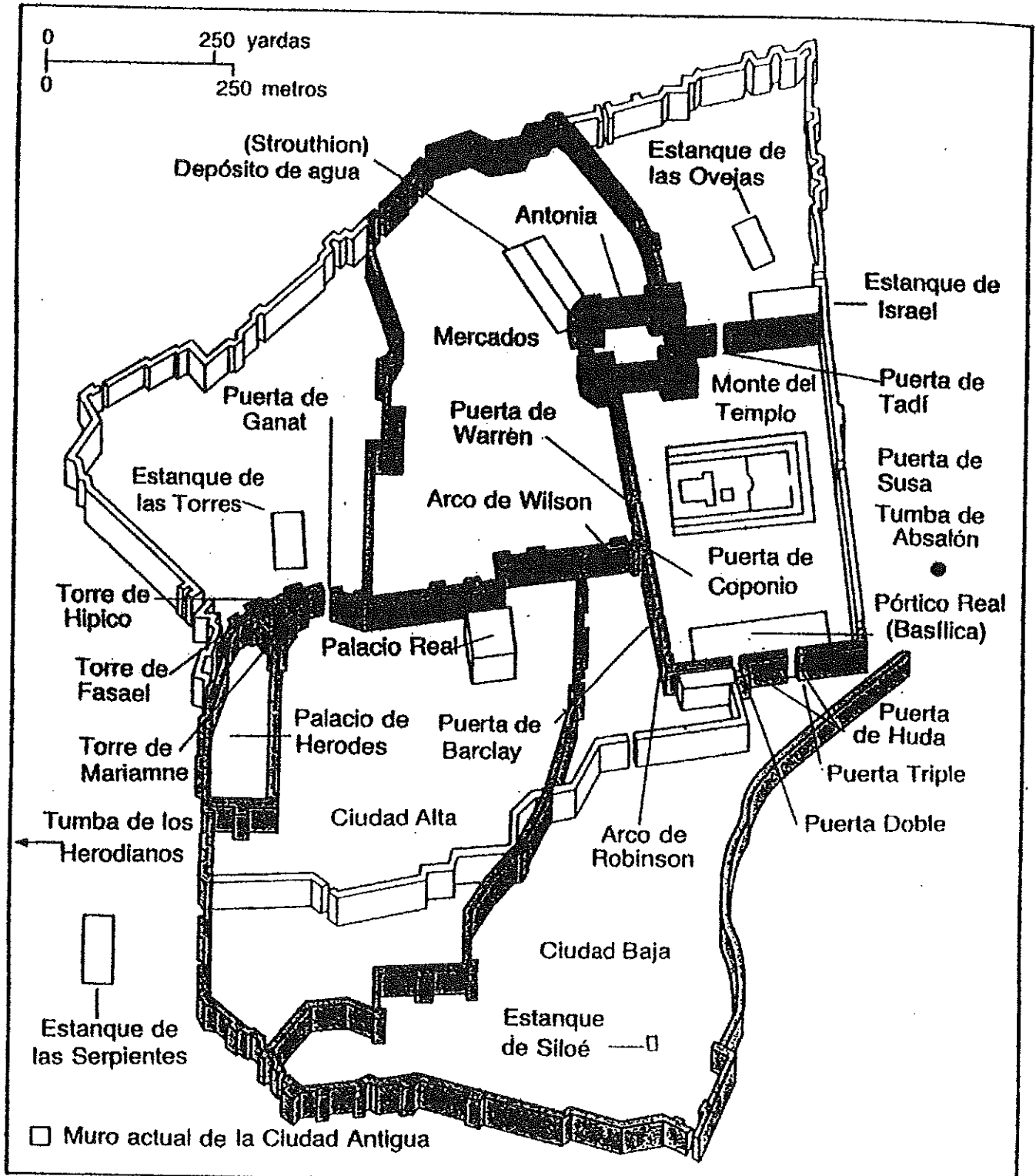
Mapa - sector meridional del Mar Muerto y el Arabá.



Empezando a la izquierda en las playas del Mar Mediterráneo se puede apreciar como la Palestina sube desde las llanuras occidentales hasta la cordillera central, y luego baja al valle del Jordán antes de subir de nuevo a la altiplanicie oriental.

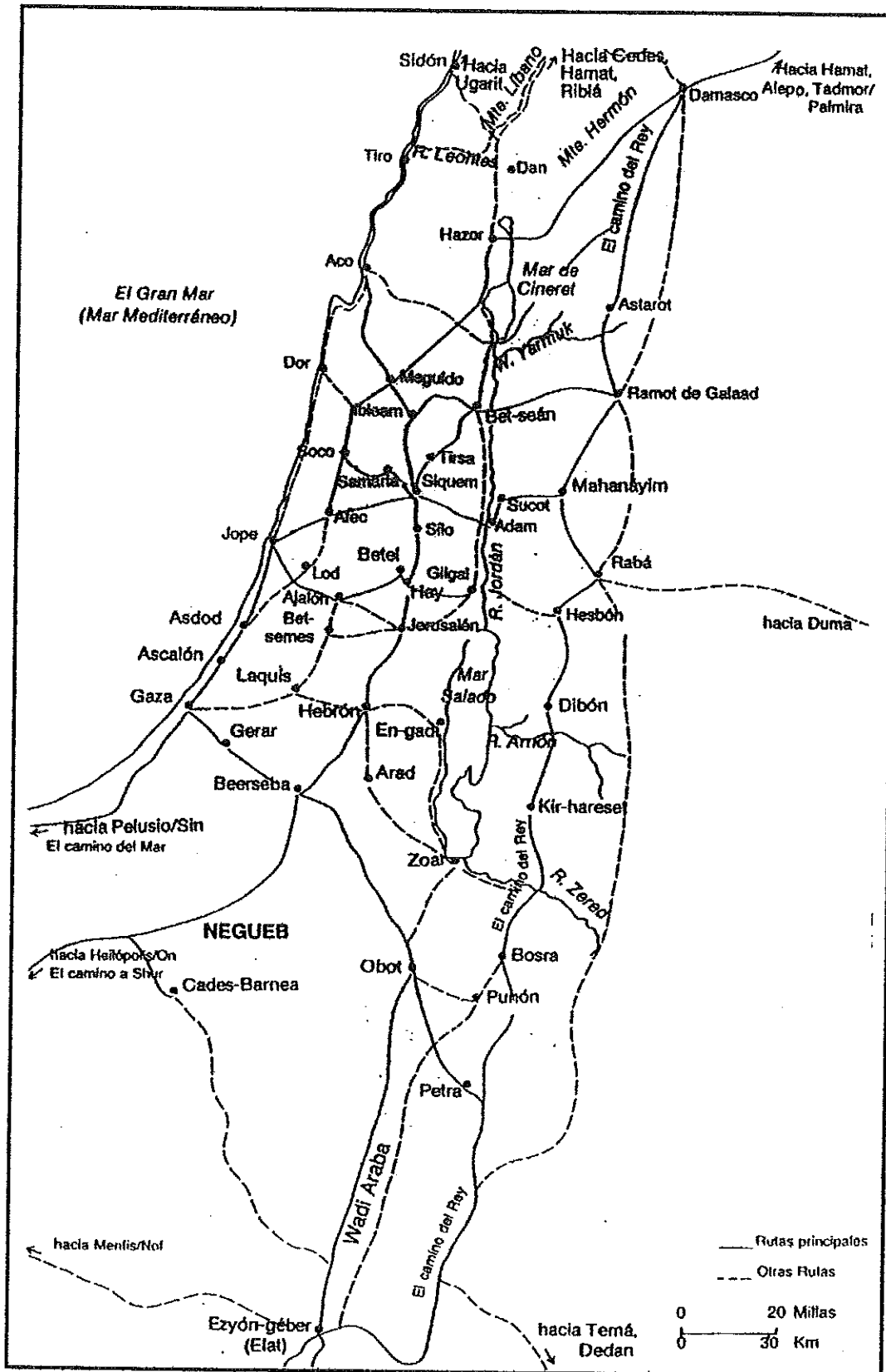
Mapa # 7

CIUDAD ANTIGUA: JERUSALEN



Mapa # 8

LA TIERRA SANTA: RUTAS PRINCIPALES



Gráfica # 9

CALENDARIO AGRICOLA HEBREO

